

代號：10110-11510
40110-41510
50110-50210
63110-63510
頁次：4-1

112年公務人員特種考試司法人員、法務部調查局 調查人員、海岸巡防人員、移民行政人員考試及112年 未具擬任職務任用資格者取得法官遴選資格考試試題

考試別：司法人員、調查人員、海岸巡防人員、移民行政人員

等別：三等考試

類科組：各類科組

科目：國文（作文與測驗）

考試時間：2小時

更多調查局考試科目的歷屆題庫
立即上網搜尋“調查局歷屆考古題懶人包”
高鋒公職補習班整理
Line@帳號：@gaofeng
連絡電話：07-236-7296

座號：_____

※注意：(一)禁止使用電子計算器。

(二)本科目試題包括作文及測驗兩部分，請妥適分配各題作答時間。

甲、作文部分：(80分)

(一)作答時請將試題題號及答案依照順序寫在申論試卷上，並以藍、黑色鋼筆或原子筆由左至右橫式作答，於本試題上作答者，不予計分。

(二)不得於試卷上書寫姓名或座號。

一、短文寫作：(20分)

法國作家普魯斯特 (Marcel Proust, 1871-1922) 在其巨著《追憶似水年華》 (À la recherche du temps perdu, 1913-1927) 裡說：

所以我們記憶最美好的部分仍在我們身外，存在於帶雨點的一絲微風吹拂之中，存在於一間臥房發黴的味道之中，或存在於第一個火苗的氣味之中，在凡是我們的頭腦沒有加以思考，不屑於加以記憶，可是我們自己追尋到了的地方。這是往日的最後留存，也是最美妙的部分，到了我們的淚水似乎已完全枯竭的時候，它仍能叫我們流下熱淚。

有時候我們得聽到一首老歌，才能想起已經失去的友人，或者得重返小時候長大的地方，才能記起童年的時光。我們許多的記憶都是被埋藏起來的，需要正確的環境才能重新將之鮮活，因此普魯斯特認為，我們部分的記憶存活在我們之外。

我們的心智從那裡開始，又在那裡結束，實在沒有這麼容易界定。人類並非獨立存在的靈魂，而是血肉組成、有形有體的生物。我們把身邊的人放在心裡，也把生活環境做如此安排，以至於環境也成了自我的一部分。

根據以上引導文字內容，請扼要說明普魯斯特的觀點為何？並請精簡敘說閱讀之後的觀感或啟發。文長不超過 350 字。

二、作文：(60分)

子曰：「志於道，據於德，依於仁，游於藝。」（《論語·述而第七篇·第六章》）

此章可說是《論語》人生理想的總綱——開立在「志於道」，根源在「依於仁」，實踐在「據於德」，表現在「游於藝」。通過人文教化，喚醒主體仁心，並由德行實踐，顯豁人生大道。

《論語》是生命的學問，學問的生命，不是純理演繹，也不是經驗歸納，而是生命自覺艱苦而興發的理想，凡讀聖賢書，要在生命直下的實踐與擔負中，才会有真切的感受與深入的體會。

「志」是心之所之，「之」是「往」的意思，也就是人的嚮慕發心。活著，是事實；活得很好，是價值；因此，「道」是既真實又莊嚴的人生道路。

「據」是固守不失，「德」是德行，也是實踐修養的工夫。德行是人人可走而真實莊嚴的正路，通過德行的修養，因而四通八達，成就人生的康莊大道。

「依」是依靠，「仁」是仁心。仁心會呈顯而體現，因此人就有不安而求安的道德感，以及應該、不應該的價值自覺，而具有普遍性與必然性。

「游」是優游、涵泳，也是「陶冶」的意思。「藝」是六藝，就是人文教化、外王的學問，也是生活的「藝術化」，能夠實現悠然自得、圓滿的人格。

因此，總括來說，人生的理想在開發人人可走的大道，這一大道是通過每一個人德行修養的正路而展開；而德行修養的基礎，就在人人內在本有的仁心發用上，仁心發用就落實在人文教化之中，因此使得人生大道的莊嚴與德行實踐的工夫，皆在優游自得中呈現，則此生命即入圓滿化境。

承上說明的意涵與旨趣，請以「人生的四大進路與理想圓滿」為題，作文一篇，闡論己見。

乙、測驗部分：(20分)

代號：1101

(一)本試題為單一選擇題，請選出一個正確或最適當答案。

(二)共10題，每題2分，須用2B鉛筆在試卡上依題號清楚劃記，於本試題或申論試卷上作答者，不予計分。

1 下列與「杏」相關詞彙的說明，何者敘述錯誤？

- (A)「杏眼」是用來形容女子圓大而美的眼睛
- (B)「杏壇」相傳為孔子授業講學之地，後泛指授徒講學的所在
- (C)「杏花村」出處為杜牧〈清明〉「牧童遙指杏花村」的詩句，寫的是秋天景物
- (D)今日言「杏林」指醫界。因董奉隱居廬山，為人治病不收錢，僅要求患者植杏樹，久之，乃蔚然成林

2 「旅行回來，我總問自己這問題：看到了什麼？為了看到特地做給旅人看的庸俗而失望，而生氣，然後嘗試在浮面印象中，萃取背後一些樸質無華的東西，譬如那些和觀光客無關的住宅區，或雄偉大道以外，不引人注意的斑駁邊牆與破落小街。旅人的眼睛要求新奇，要求戲劇，要求娛樂，那些日常生活裡所沒有的種種。而我要求來自真實的感動。我要歷史，要生命承受時間的重量和力量，要視覺和超越視覺的美感，然後我要在所有的拔起和跌落、蒼涼和輝煌中啞口無言——不再是旅人，而是進入了時間，成為那個地方的一部分。」

根據上文，下列敘述何者最符合作者的旨趣？

- (A)旅人對於庸俗的行程內容，感到啞口無言
- (B)旅行時，不該看那些無關的住宅區或是雄偉的大道
- (C)旅人透過對時空真實的感動，而成為那個地方的一部分
- (D)旅人的眼睛，若不能看到新奇且具戲劇性的種種，就會感到失望

3 「一個仁人君子不會以自己的好惡，對他人妄貼標籤，雖有所愛，仍然看清他的弱點；雖有所憎，仍能看出他的美好層面。」

下列選項，最能呼應作者主張的是：

- (A)子絕四：毋意，毋必，毋固，毋我
- (B)君子病無能焉，不病人之不己知也
- (C)愛人者，人恆愛之；敬人者，人恆敬之
- (D)君子成人之美，不成人之惡，小人反是

4 「美國的民主發源於清教徒傳統，不過民主制度建立以後，也就逐漸一步一步發展成獨立於清教徒傳統之外的東西。清教徒傳統是一項歷史的偶然，並不必然要在清教徒的社會中，才能產生民主。民主和其他制度很不一樣的地方，就在它是所有人類設計出來的政治制度中，最具自我修正能力的。民主在美國不斷持續擴大其範圍，每擴大一次，就進行一次民主內部機制的調整。從開放黑奴與婦女的投票限制，接著財產限制、身分限制、血統限制、性別限制，乃至年齡限制，不斷被打破、放寬。每打破一項限制，美國的政治制度就必須處理原先創設時沒有想到的問題，並且進行調整，但是美國民主又有穩固的一貫性，其核心精神在於平等，在信仰上帝的平等中實現公民自由。」

根據上文，下列敘述何者正確？

- (A)美國的民主制度建立在以自由為核心基礎，遵從上帝給予的可以悔改、救贖的自由，而非為所欲為的自由
- (B)民主制度在美國不斷地調整修正，從初期的內閣制改成總統制，這是只有在清教徒的社會中才能夠完成的
- (C)美國最初就採用直接民主的投票方式，各項選舉每個人都有直接的投票權，不受性別、血統、財產等等限制
- (D)美國的民主制度雖發源於清教徒傳統，但始終能基於平等的核心精神，不斷突破過去的限制，解決現實問題

5 「你方才叫我吃燕窩粥的話，雖然燕窩易得，但只我因身子不好了，每年犯了這病，也沒什麼要緊的去處；請大夫、熬藥、人蔘、肉桂，已經鬧了個天翻地覆了，這會子我又興出新文來，熬什麼燕窩粥，老太太、太太、鳳姐姐，這三個人便沒話說，那些底下老婆丫頭們，未免嫌我太多事了。你看這裡這些人，因見老太太多疼了寶玉和鳳姐姐兩個，他們尚虎視眈眈，背地裡言三語四的，何況於我！況我又不是正經主子，原是無依無靠投奔了來的，他們已經多嫌著我呢；如今我還不知進退，何苦叫他們咒我？」（《紅樓夢》）

上文是林黛玉婉謝薛寶釵提議的話，沒有提及那個方面？

- (A)病況無大礙，無須驚怪
- (B)已添人麻煩，豈能多事
- (C)向來受偏愛，恐惹妒意
- (D)周遭閒話多，心懷憂懼

6 己卯上元，余在儋耳，有老書生數人來過，曰：「良月佳夜，先生能一出乎？」予欣然從之。步城西，入僧舍，歷小巷，民夷雜揉，屠酷紛然。歸舍已三鼓矣。舍中掩關熟寢，已再鼾矣。放杖而笑，孰為得失？問先生何笑，蓋自笑也，然亦笑韓退之釣魚無得，更欲遠去，不知走海者，未必得大魚也。（蘇軾《東坡志林·記遊》）

有關蘇軾此次夜遊，下列敘述何者正確？

- (A)發生在中秋月圓的晚上
- (B)婉拒友人相邀一人獨行
- (C)途經小巷，出入分子複雜
- (D)夜半遊歸，舍中人已熟睡

7 承上題，作者夜遊歸舍後，放杖而笑的主要原因是：

- (A) 僻居儋耳，得以擺脫權力鬥爭而舒坦
- (B) 月夜閒遊，得以盡賞城中勝景而心怡
- (C) 自解自適，對人生境遇恍然有所領悟
- (D) 崇仰讚嘆，對古人積極求用感佩認同

8 「在現代，個人的信念，唯有在公共的論述裡方克證明自己的理據與價值，因為在公共論述裡，信念才會面對與自己一樣具有主觀確定性的異己信念，才會受到認知與道德兩方面的考驗。也只有承認異己與自己一樣擁有道德信心，才能迫使責任意識成為抉擇時的有效拘束。……現代性的倫理，就是對於這樣一個批判性的烏托邦的認定。」

根據上文，下列敘述何者正確？

- (A) 在公共論述中，具有理想的個人信念，都應該成為社會主導的力量
- (B) 異己信念如果跟主流社會價值觀或意識型態不同，暫時擱置不論有其合理性
- (C) 批判性的烏托邦，可能會導致眾聲喧嘩的虛無結果，因此也需要再被檢討和反思
- (D) 現代性的倫理，應尊重異己信念，彼此雙方都應接受認知和道德的公開論述與考驗

9 「這個世界滿具各種看得見看不見的頻繁移動，許多物種因為粗勇強健，迅速在各地伺機生長、土生歸化；這聽來，臺灣的移民社會與多元交融的文化，豈不亦像極了生態世界的交錯繁沓。」

根據上文，下列選項何者正確？

- (A) 臺灣土地的外來物種粗勇強健，如同移民克服多重困難後才能生存
- (B) 臺灣因移民文化多元，生活方式各不相同，而擁有豐富的自然生態
- (C) 臺灣的移民社會多元交融，如同自然物種因移動所形成的豐富生態
- (D) 臺灣社會的外來移民十分多元，反映了自然界適者生存的演化原理

10 「從大約三萬年前狗被馴化之時，人類已開始形塑其他動物的肢體。到今天農業的工業化、新物種的引進，以及城市化、環境污染和氣候變化等綜合作用，對地球物種正帶來前所未有的壓力。人類影響下的微觀演化，並非達爾文提出的自然選擇演化。動物體內一種內在的基因組，使個體動物能以最佳適應性的身體計畫和行為模式面對新的機遇和壓力，從而在短短幾代的時間內發生演化。著名的例子就是英國胡椒蛾的基因突變。英國工業革命時胡椒蛾的顏色，為適應大量煙囪冒出的黑色煤煙和空氣污染，在 1819 年左右從白色變成了黑色。不過，對於較大較複雜的生物，演化所需時間漫長，這使得許多動物無法迅速適應人類主宰的環境。當今地球物種滅絕的速度比史前時代要快了 1000 倍。」

根據上文，下列選項何者正確？

- (A) 物種的生態因為人類環境干擾，正在減少物種演化的機率
- (B) 史前時代地球生物基因突變較當代快，故物種毀滅較緩慢
- (C) 胡椒蛾的黑化案例證明了生物為適應環境的基因演化過程
- (D) 較大較複雜的生物演化緩慢不會因人類干擾導致滅絕危機

測驗式試題標準答案

考試名稱：112年公務人員特種考試司法人員、法務部調查局調查人員、海岸巡防人員、移民行政人員考試及112年未具擬任職務任用資格者取得法官遴選資格考試

類科名稱：行政執行官、觀護人（選試社會工作概論）、司法事務官法律事務組、公證人、司法事務官財經事務組、監獄官（男）、監獄官（女）、鑑識人員、觀護人（選試少年事件處理法）、檢察事務官營繕工程組、檢察事務官財經實務組、公職法醫師、檢察事務官偵查實務組、檢察事務官電子資訊組、心理輔導員、調查工作組（選試俄文）、調查工作組（選試日文）、電子科學組、營繕工程組、調查工作組（選試英文）、調查工作組（選試法文）、法律實務組、財經實務組、調查工作組（選試阿拉伯文）、調查工作組（選試西班牙文）、化學鑑識組、調查工作組（選試韓文）、調查工作組（選試德文）、資訊科學組、醫學鑑識組、海洋巡護科航海組、海巡行政、移民行政（選試越南文）、移民行政（選試英文）、移民行政（選試韓文）、移民行政（選試泰文）、移民行政（選試印尼文）

科目名稱：國文（作文與測驗）（試題代號：1101）

單選題數：10題

單選每題配分：2.00分

複選題數：

複選每題配分：

標準答案：

更多調查局考試科目的歷屆題庫
立即上網搜尋“調查局歷屆考古題懶人包”
高鋒公職補習班整理
Line@帳號：@gaofeng
連絡電話：07-236-7296

題號	第1題	第2題	第3題	第4題	第5題	第6題	第7題	第8題	第9題	第10題
答案	C	C	A	D	C	D	C	D	C	C

題號	第11題	第12題	第13題	第14題	第15題	第16題	第17題	第18題	第19題	第20題
答案										

題號	第21題	第22題	第23題	第24題	第25題	第26題	第27題	第28題	第29題	第30題
答案										

題號	第31題	第32題	第33題	第34題	第35題	第36題	第37題	第38題	第39題	第40題
答案										

題號	第41題	第42題	第43題	第44題	第45題	第46題	第47題	第48題	第49題	第50題
答案										

題號	第51題	第52題	第53題	第54題	第55題	第56題	第57題	第58題	第59題	第60題
答案										

題號	第61題	第62題	第63題	第64題	第65題	第66題	第67題	第68題	第69題	第70題
答案										

題號	第71題	第72題	第73題	第74題	第75題	第76題	第77題	第78題	第79題	第80題
答案										

題號	第81題	第82題	第83題	第84題	第85題	第86題	第87題	第88題	第89題	第90題
答案										

題號	第91題	第92題	第93題	第94題	第95題	第96題	第97題	第98題	第99題	第100題
答案										

備註：

112年公務人員特種考試司法人員、法務部調查局
調查人員、海岸巡防人員、移民行政人員考試及112年
未具擬任職務任用資格者取得法官遴選資格考試試題

代號：3401
頁次：6-1

考試別：調查人員

等別：三等考試

類科組：各組別

科目：綜合法政知識與英文（包括中華民國憲法、法學緒論、兩岸關係、英文）

考試時間：1小時

座號：_____

更多調查局考試科目的歷屆題庫
立即上網搜尋“調查局歷屆考古題懶人包”
高鋒公職補習班整理
Line@帳號：@gaofeng
連絡電話：07-236-7296

※注意：(一)本試題為單一選擇題，請選出一個正確或最適當答案。

(二)本科目共50題，每題2分，須用2B鉛筆在試卡上依題號清楚劃記，於本試題上作答者，不予計分。

(三)禁止使用電子計算器。

- 依司法院大法官解釋及憲法法庭判決，有關言論自由與新聞自由，下列敘述何者正確？
 - 憲法對言論自由及其傳播方式之保障，屬於絕對，不因其特性而有不同之保護範疇及限制
 - 社會秩序維護法規定，無正當理由跟追他人，經勸阻不聽者，處罰鍰或申誡，牴觸憲法第 11 條保障之新聞採訪自由
 - 商品標示為提供商品客觀資訊之方式，應受言論自由之保障
 - 為保障名譽權，法院得以判決命加害人公開道歉
- 下列何者並非司法院釋字第 443 號解釋所建構之「法律保留原則」的具體內涵？
 - 剝奪人民生命或限制人民身體自由者，必須遵守罪刑法定主義，以制定法律之方式為之
 - 涉及人民其他自由權利之限制者，亦僅得由法律加以規定
 - 如以法律授權行政機關發布命令為補充規定時，其授權應符合具體明確之原則
 - 若屬執行法律之細節性、技術性次要事項，行政機關得發布命令進行必要之規範
- 憲法及增修條文中關於「原住民」或「原住民族」之規定，不包括下列何者？
 - 國家應積極維護發展原住民族之語言及文化
 - 國家應保障原住民族之地位及政治參與
 - 國家應保障原住民族之正名
 - 立法院立法委員有平地原住民及山地原住民之代表
- 依大法官解釋及憲法法庭判決，有關人民服公職權，下列敘述何者錯誤？
 - 服公職權為廣義參政權之一環
 - 如對服公職權所為之差別待遇，涉及公務人員之免職，應以中度標準予以審查
 - 由行政機關行使公務員之免職處分，牴觸憲法第 77 條規定司法院掌理公務員懲戒之意旨
 - 警消人員同一考績年度中平時考核獎懲累積達二大過予以免職，不生違反憲法保障人民服公職權之問題
- 依司法院釋字第 748 號解釋，有關同性性傾向者之婚姻自由保障，下列敘述何者錯誤？
 - 同性伴侶為經營共同生活之目的，成立具有親密性及排他性之永久結合關係，受憲法第 22 條之保障
 - 立法者應修正民法親屬編規定，保障並適用於同性婚姻
 - 婚姻對於人性尊嚴與人格健全發展具有不可或缺性
 - 婚姻自由包括是否結婚以及與何人結婚之自由

- 6 我國憲法第 2 章人民享有之自由權利規定，應均具有下列那一基本權利之主觀功能？
(A)防禦權 (B)參與權 (C)受益權 (D)分享權
- 7 依憲法增修條文，關於行政院院長，下列敘述何者正確？
(A)行政院院長由總統提名，經立法院同意任命之
(B)行政院院長辭職或出缺時，由行政院副院長繼任
(C)行政院院長於立法院通過不信任案時即應於 10 日內提出辭職
(D)行政院院長任命其所屬各部會首長，應經立法院同意
- 8 有關立法委員之質詢權，下列敘述何者錯誤？
(A)立法委員在開會時，有向行政院院長及行政院各部會首長質詢之權
(B)立法院各種委員會得邀請政府人員及社會上有關係人員到會備詢
(C)立法院開會時，關係院院長及各部會首長得列席陳述意見
(D)立法院於每年集會時，得聽取總統國情報告並質詢
- 9 有關大法官審理總統、副總統彈劾案，下列敘述何者正確？
(A)監察院調查確認總統、副總統有貪瀆之情事，經全體監察委員四分之三同意後，得向大法官提起彈劾總統、副總統
(B)大法官審理總統、副總統彈劾案，準用解釋憲法之程序
(C)宣告彈劾成立之判決，其評決應經大法官現有總額三分之二以上同意
(D)宣告彈劾成立之判決主文，應諭知被彈劾人於收到決定書後立即解除職務
- 10 關於中央與地方關係，下列敘述何者正確？
(A)中央對於地方機關自治事項，得監督其適用中央法規有無恣意濫用
(B)中央對於地方機關自治事項，得進行合目的性監督
(C)中央對於地方機關委辦事項之監督，地方機關得提起行政救濟
(D)自治規則與上級自治團體自治規則牴觸者，無效
- 11 有關法規廢止，下列敘述何者錯誤？
(A)法律之廢止，應經立法院通過，總統公布
(B)命令之廢止，由原發布機關為之
(C)法律或命令之廢止，得僅公布或發布其名稱及施行日期；並自公布或發布之日起，算至第三日起失效
(D)法規定有施行期限者，自主管機關公告之日起，算至第三日起失效
- 12 下列有關類推適用之敘述，何者錯誤？
(A)類推適用是一種針對立法者疏忽所造成之法律漏洞加以填補的方法，而非法律解釋之方法
(B)類推適用係基於法理上「相類似之案件，應為相同之處理」之平等原則要求，而為之法律適用方法
(C)類推適用廣見於一般之民事、刑事及行政案件之中
(D)類推適用方法，在中國古代被稱之為「比附援引」
- 13 下列何者不適用行政程序法？
(A)私立大學對違反校規之學生予以退學處分
(B)行政機關與人民訂定某建物的租賃契約，以作為辦公處所之用
(C)主管機關為訂定法規命令，而於網路上公告該法規命令的草案
(D)直轄市政府之主管機關，處理人民對某案件的陳情

- 14 行政機關依法有裁量之權限，但因故意或過失而消極的不行使裁量權，此一情形稱為：
(A)裁量濫用 (B)裁量逾越 (C)裁量怠惰 (D)裁量收縮至零
- 15 依我國著作權法規定，有關著作的平行輸入與權利耗盡原則，下列敘述何者正確？
(A)甲在我國境內取得一幅名畫之真跡原件所有權，得將之高價轉售予他人
(B)乙在我國境內購買經合法重製之電腦程式光碟片，得將之出租予他人
(C)丙於出國旅遊時購入同一繪本的合法重製物 3 本，連同行李一起攜回我國，只要其目的是為供個人利用之目的，不視為侵害著作權
(D)丁明知為侵害著作財產權之電腦程式光碟片，仍將之出借給不特定多數人，只要丁沒有藉此營利，不視為侵害著作權
- 16 有關勞動基準法之工資規範，下列敘述何者錯誤？
(A)工資之給付，應以法定通用貨幣為之，不得於勞動契約內訂明一部以實物給付之
(B)工資應全額直接給付勞工
(C)雇主不得預扣勞工工資作為違約金或賠償費用
(D)雇主對勞工不得因性別而有差別之待遇。工作相同、效率相同者，給付同等之工資
- 17 下列關於家庭暴力防治法中保護令之審理與核發，何者正確？
(A)法院於通常保護令審理終結前，得不經審理程序核發暫時保護令
(B)法院得進行調解或促成和解
(C)若被害人已對相對人提起刑事告訴，於判決確定前，法院得停止程序
(D)通常保護令之有效期限為 2 年以下，延長以 1 次為限
- 18 受刑人甲因罹患疾病而移送醫院，住院期間，甲身體狀況漸入佳境，遂趁戒護人員暫離時，屢次向護理師表示想回家看看老父老母。某日甲向護理師乙商借迴紋針說要掏耳朵，乙不覺有異，遞上迴紋針。甲趁夜半人靜時用迴紋針解開械具，離開醫院。下列敘述何者正確？
(A)乙的行為構成過失縱放人犯罪
(B)甲之行為係損壞械具而脫逃，成立刑法第 161 條第 2 項加重脫逃罪
(C)脫逃罪是舉動犯，只要開始嘗試脫離公權力之拘束或監督，即成立既遂犯罪
(D)如甲在離開醫院的途中遭到圍捕而未成功脫逃，其行為雖屬未遂，仍應加以處罰
- 19 以我國為例，關於大陸法系之敘述，下列何者錯誤？
(A)具備成文法典 (B)採取公、私法二元制度
(C)無習慣法適用之餘地 (D)重視法釋義學
- 20 甲將名貴 A 錶無償交予乙配戴一週，乙使用時不慎遺失該錶而被路人丙拾得，丙隨即將之贈與給善意不知情的丁。下列敘述何者正確？
(A)甲、乙間成立 A 錶的租賃契約 (B)丙因拾獲 A 錶而直接取得該錶之所有權
(C)丙將 A 錶贈與丁之物權行為無效 (D)丁得主張善意受讓取得 A 錶之所有權
- 21 有關中共解放軍的區域規劃，下列敘述何者正確？
(A)針對北京地區的防務是北部軍區 (B)針對臺灣的國防事務是南部戰區
(C)中共目前總共有五大戰區 (D)中共目前總共有八大軍區
- 22 中共與中亞國家的合作組織是：
(A)一帶一路發展組織 (B)西安發展組織 (C)博鰲論壇 (D)上海合作組織

- 23 對於中共外交體制與人事的敘述，下列何者正確？
(A)當前中共外交政策的最高決策機構是「中共中央外事工作領導小組」
(B)中共的「中央對外聯絡部」是負責政黨外交
(C)當前「中共中央外事工作領導小組」的組長是習近平
(D)中共的「中央對外聯絡部」與「外交部」是「兩塊招牌，一套人馬」
- 24 習近平在 2012 年上台後的外交戰略被外界稱為：
(A)戰狼外交 (B)韜光養晦外交 (C)大國外交 (D)等距外交
- 25 有關「台企聯」的敘述，下列何者錯誤？
(A)全名是「台灣企業聯合會」
(B)業務主管單位是中共國務院台灣事務辦公室
(C)中共國務院台灣事務辦公室主任擔任榮譽會長
(D)為在中國大陸各地台商協會的最高組織，設在北京
- 26 2014 年發生的「太陽花學運」，是因為大學生不滿兩岸簽署什麼協議？
(A)兩岸經濟協作協議 (B)海峽兩岸製造業合作協議
(C)海峽兩岸服務貿易協議 (D)兩岸投資保障協議
- 27 有關中共政協制度的敘述，下列何者錯誤？
(A)各省、自治區、直轄市、縣、市都設有相關單位
(B)一屆是五年，現任主席是王滬寧
(C)在中央的全名是「中華全國政治協調委員會」
(D)該單位的職能強調「參政議政」與「民主監督」
- 28 從 2015 年以來中共所推動的宗教政策，下列敘述何者錯誤？
(A)拆除伊斯蘭教的圓頂塔樓建築 (B)以「宗教中國化」為主軸
(C)允許教廷在中國大陸推動天主教相關事務 (D)國家宗教事務局併入中共中央統一戰線工作部
- 29 中國大陸的人口問題與政策不包括下列那一項？
(A)人口老化嚴重 (B)仍推動「一胎化」政策
(C)少子化問題嚴峻 (D)男女性別比例失調
- 30 習近平執政以來的經濟政策，下列敘述何者錯誤？
(A)一帶一路（絲綢之路經濟帶與 21 世紀海上絲綢之路）
(B)國退民進（國營企業退出，民營企業進入）
(C)亞洲基礎設施投資銀行
(D)人民幣的國際化
- 31 It was _____ that very day even though we had the fan rattling behind us.
(A) rollicking (B) stifling (C) rummaging (D) rumbling
- 32 If your skin type is _____ oily, the pores around the T-zone would produce the most oil and tend toward blackhead formation.
(A) prehistorically (B) predominantly (C) predictably (D) preeminently
- 33 The news of the forest fire filled them with _____ because they had just had a good vacation there.
(A) dismay (B) relief (C) turbulence (D) lucidity
- 34 After their general had been captivated, the enemy troops were forced to _____ after months of intense fighting.
(A) survive (B) weather (C) surrender (D) withstand

- 35 Many successful leaders believe that a _____ approach should be taken in order to solve complex problems, with feasible solutions often being preferred over more idealistic ones.
(A) resilient (B) resistant (C) pragmatic (D) precarious
- 36 The thriller movie had the audience on the _____ of their seats, who eagerly anticipated the next twist and turn in the plot.
(A) ledge (B) surface (C) edge (D) corner
- 37 We were told about the meeting just one day before. Our report was prepared in such a _____ and contained several mistakes.
(A) stupor (B) privilege (C) haste (D) torment
- 38 Instead of treating you like an expert, some caring and sympathetic doctors would give you more _____ explanations.
(A) ambiguous (B) furious (C) portable (D) comprehensible
- 39 Autumn for Max is a _____ season and it easily brings about his deeper feelings and thoughts of just about anything.
(A) compulsory (B) legitimate (C) negligible (D) sentimental
- 40 In Japan, combined junior high and senior high schools are mostly _____, but the number of public ones is increasing.
(A) collective (B) communal (C) shared (D) private
- 41 Patricia's recent behaviors have become so _____ that nobody can really understand what she is doing.
(A) integral (B) lavish (C) obscure (D) relevant
- 42 I enjoy going to see musicals at the theater because the live performances and music are very _____ to me.
(A) captious (B) captivating (C) precarious (D) preventive
- 43 Uncle Jones is always a bit _____; therefore, his relatives and acquaintances keep him at a great distance.
(A) proficient (B) elastic (C) decent (D) eccentric
- 44 We can see many coral reefs occur in shallow water where the sun provides _____ energy for them to grow rapidly.
(A) lucrative (B) abundant (C) exuberant (D) modest
- 45 The retired aircraft will be _____ and some of its parts can be reused in other airplanes.
(A) detoured (B) dismantled (C) diminished (D) descended

請依下文回答第 46 題至第 50 題：

When he moved from South Africa to New York City, Norman Rosenthal, a psychiatrist, noticed he felt more depressed during the cold, short days of the city's winters than he had in his home country. Years later, he published the first paper to scientifically name the winter blues: Seasonal Affective Disorder (SAD). Subsequent studies have found that the seasonal depression affects those in northern latitudes more and that about 10 percent of SAD sufferers have symptoms in the summertime instead.

The most commonly reported symptoms of winter depression are hypersomnia, the desire to sleep more than usual, as well as an increased appetite and lack of interest in things. According to experts, most people experience symptoms in young adulthood, but SAD can begin at any stage of life. The condition also varies by sex. About three times as many women as men get SAD.

But why does less daylight make some people clinically depressed? One leading theory is that the change in daylight disrupts our bodies' release of melatonin, a hormone the brain releases every night to promote sleep. As the supply of daylight dwindles in winter, melatonin may wear off later. That means in the morning the body is still in a state of biological night. As for summer SAD, triggers might include the heat and humidity. Instead of feeling lethargic, summer SAD patients more often feel irritable and agitated.

Experts say a professional diagnosis is a crucial first step toward treatment and self-diagnosis is not suggested. One common treatment is sitting in front of a bright box of light for 30 minutes to signal to the body that it's time to wake up. But the drawback to light boxes is that they only work on the day that you use them, so you need to use them daily. Another treatment that may have longer lasting benefits is Cognitive Behavioral Therapy (CBT), a form of talk therapy. As negative thinking tends to breed negative emotions, CBT aims to encourage more neutral thoughts. For example, "I hate winter" might be reframed as "winter isn't my favorite season, but I still find things to enjoy." Moreover, finding wintertime hobbies may also help. People with SAD often have hobbies that are summer specific, such as growing gardens or beach going. Instead of hibernating under a blanket, people are encouraged to find indoor hobbies, such as knitting, reading, or going to the gym, to boost their mood. Whether using light or talk therapy, there is no reason to not seek mental health treatment, even if symptoms are only present for a few months out of the year.

- 46 According to the passage, what prompted Norman Rosenthal to study seasonal depression?
- (A) His patients' symptoms.
 - (B) His personal experiences.
 - (C) Problems of previous studies.
 - (D) Rising cases of New York City adults.
- 47 According to the passage, what has to be done before receiving SAD treatments?
- (A) Getting a good light box.
 - (B) Talking to family or friends.
 - (C) Seeking a professional diagnosis.
 - (D) Comparing the effects of different treatments.
- 48 According to the passage, which of the following is NOT helpful in treating SAD?
- (A) Using light boxes daily.
 - (B) Being indoors and resting in winter.
 - (C) Regulating the production of melatonin.
 - (D) Changing the way people think.
- 49 Which of the following is closest in meaning to the word "lethargic" in the passage?
- (A) Guarded.
 - (B) Furious.
 - (C) Inactive.
 - (D) Superior.
- 50 According to the passage, which of the following statements is true?
- (A) SAD affects men more than women.
 - (B) Summer SAD is less common than winter SAD.
 - (C) Winter depression is often triggered by humidity.
 - (D) Sufferers of winter depression are likely to lose appetite.

測驗式試題標準答案

考試名稱：112年公務人員特種考試司法人員、法務部調查局調查人員、海岸巡防人員、移民行政人員考試及112年未具擬任職務任用資格者取得法官遴選資格考試

類科名稱：調查工作組（選試韓文）、調查工作組（選試日文）、調查工作組（選試西班牙文）、調查工作組（選試俄文）、調查工作組（選試阿拉伯文）、營繕工程組、調查工作組（選試法文）、調查工作組（選試英文）、醫學鑑識組、財經實務組、法律實務組、化學鑑識組、調查工作組（選試德文）、資訊科學組、電子科學組

科目名稱：綜合法政知識與英文（包括中華民國憲法、法學緒論、兩岸關係、英文）（試題代號：3401）

單選題數：50題

單選每題配分：2.00分

複選題數：

複選每題配分：

標準答案：

更多調查局考試科目的歷屆題庫
立即上網搜尋“調查局歷屆考古題懶人包”
高鋒公職補習班整理
Line@帳號：@gaofeng
連絡電話：07-236-7296

題號	第1題	第2題	第3題	第4題	第5題	第6題	第7題	第8題	第9題	第10題
答案	C	B	C	C	B	A	C	D	C	A

題號	第11題	第12題	第13題	第14題	第15題	第16題	第17題	第18題	第19題	第20題
答案	D	C	B	C	A	A	A	D	C	D

題號	第21題	第22題	第23題	第24題	第25題	第26題	第27題	第28題	第29題	第30題
答案	C	D	B	A	A	C	C	C	B	B

題號	第31題	第32題	第33題	第34題	第35題	第36題	第37題	第38題	第39題	第40題
答案	B	B	A	C	C	C	C	D	D	D

題號	第41題	第42題	第43題	第44題	第45題	第46題	第47題	第48題	第49題	第50題
答案	C	B	D	B	B	B	C	B	C	B

題號	第51題	第52題	第53題	第54題	第55題	第56題	第57題	第58題	第59題	第60題
答案										

題號	第61題	第62題	第63題	第64題	第65題	第66題	第67題	第68題	第69題	第70題
答案										

題號	第71題	第72題	第73題	第74題	第75題	第76題	第77題	第78題	第79題	第80題
答案										

題號	第81題	第82題	第83題	第84題	第85題	第86題	第87題	第88題	第89題	第90題
答案										

題號	第91題	第92題	第93題	第94題	第95題	第96題	第97題	第98題	第99題	第100題
答案										

備註：

112年公務人員特種考試司法人員、法務部調查局
調查人員、海岸巡防人員、移民行政人員考試及112年
未具擬任職務任用資格者取得法官遴選資格考試試題

考試別：調查人員
等別：三等考試
類科組：資訊科學組
科目：系統分析與設計
考試時間：2小時

更多調查局考試科目的歷屆題庫
立即上網搜尋“調查局歷屆考古題懶人包”
高鋒公職補習班整理
Line@帳號：@gaofeng
連絡電話：07-236-7296

座號：_____

※注意：(一)禁止使用電子計算器。

(二)不必抄題，作答時請將試題題號及答案依照順序寫在試卷上，於本試題上作答者，不予計分。

(三)本科目除專門名詞或數理公式外，應使用本國文字作答。

一、您是一家軟體公司的專案經理，公司剛剛承接了市政府的一個資訊系統開發專案。該市府的資訊處承辦要求這次的系統開發必須落實以下的【安全軟體設計原則】，請說明這些原則所代表的意義為何？（每小題5分，共25分）

- (一) Economy of Mechanism：機制經濟原則
- (二) Leveraging Existing Components：元件槓桿原則
- (三) Defense in Depth：縱深防禦原則
- (四) Fail Secure：失敗安全原則
- (五) Least Privilege：最小權限原則

二、貴公司正在準備針對某個政府標案進行投標，該標案要求專案的進行必須採用所謂的安全軟體發展生命週期（SSDLC）來進行開發。

- (一)請問為什麼客戶會要求採用 SSDLC 而非傳統的 SDLC 進行該系統的開發？（10分）
- (二)請說明 SSDLC 在需求分析、系統設計...等各個 SDLC 階段，如何將安全性納入這些軟體的開發中？（15分）

三、您正在幫國內知名的傳統連鎖餐飲企業-阿豪鹹粥建置線上點餐系統，過去阿豪的菜單都是各種鹹粥跟單點品項分別計價。但是在專案進行中，老闆想要改變原有的訂餐方式。他想讓每位客人先點基本鹹粥一份，才能加點不同組合價格的魚肚、魚腸等單品。雖然你覺得這樣的定價方式跟原來專案所規劃的作法不符，邏輯也不夠嚴謹，但是客戶的要求也不該忽視。因此，你準備針對此次變更要求執行變更管理程序。

- (一)請解釋為何你不能直接聽命於出錢老闆的意思，讓此一變動必須經過正式變更程序？（10分）
- (二)請問你會建議這個需求變更程序該如何進行？（15分）

四、貴機關正在規劃全新的遠端連線安全存取的規範，請問關於遠端存取的資通安全管理措施，應該採取那些措施？並請說明這些措施。（25分）

112年公務人員特種考試司法人員、法務部調查局
調查人員、海岸巡防人員、移民行政人員考試及112年
未具擬任職務任用資格者取得法官遴選資格考試試題

考試別：調查人員
等別：三等考試
類科組：資訊科學組
科目：資料庫應用
考試時間：2小時

更多調查局考試科目的歷屆題庫
立即上網搜尋“調查局歷屆考古題懶人包”
高鋒公職補習班整理
Line@帳號：@gaofeng
連絡電話：07-236-7296

座號：_____

※注意：(一)禁止使用電子計算器。

(二)不必抄題，作答時請將試題題號及答案依照順序寫在試卷上，於本試題上作答者，不予計分。

(三)本科目除專門名詞或數理公式外，應使用本國文字作答。

一、假設有如下庭訊場地使用紀錄管理的需求，請設計符合 BCNF (Boyce-Codd Normal Form) 且考量 OO (Object-Oriented) 的 Enhanced-ER (EER) data model，model 中需註明合適的 primary/foreign key，及資料表彼此關聯的 maximum/minimum cardinality。(30分)

註：題目中不需要用到的資料，無須列入資料表中。

- 可以查詢 2023/07/01 所有庭訊大樓各庭訊室，不同時間進行的庭訊案件，查詢結果應包含案件字號、類型、庭訊地點（庭訊大樓、庭訊室樓層、序號）。
- 可以查詢 2023/06/01~2023/06/30 1pm 進行的庭訊案件及庭訊地點，查詢結果應包含庭訊地點、庭訊日期時間、案件字號、案由、第幾審第幾次庭訊（審別、審次）、所有當事者姓名（自然人）或名稱（公司）、聯絡電話、地址。
- 可以查詢於 2022/07/01~2023/06/30 間以未成年女性為原告（原告只要有一人為未成年女性皆需計入）的案件，查詢結果應包含庭訊地點、庭訊日期時間、所有原告接受庭訊時的年齡、姓名、性別。
- 可以查詢特定日期，以公司為原告或被告的第二審庭訊資料，查詢結果應包含庭訊地點、庭訊日期時間、公司名稱、註冊日期、資本額、營業項目、案件字號、案由、審別、審次。
- 可以查詢 2022 年所有使用人數容量大於 100 庭訊室的庭訊資料，查詢結果應包含庭訊地點、庭訊日期時間、庭訊室人數容量數、案件字號、案由、審別、審次。

二、假設有如下團購紀錄關連式資料庫，請使用 SQL 回答下列相關問題。
(每小題 5 分，共 20 分)

Member (fb_account, name, mobile) PK : fb_account

Group (group_code, start_datetime, end_datetime, item, unit_price) PK :
group_code

Buy_Record (fb_account, group_code, order_datetime, quantity)

PK : fb_account+group_code

FK : fb_account ref. Member (fb_account)

FK : group_code ref. Group

註：查詢結果如非資料表的欄位名，請以別名形式，重新給予有意義的欄位名。

(一)請列出 2023/01/01~2023/06/30 間有採購「綜合維他命」的成員及採購訊息，包括成員名稱、手機號碼、團號、物品、開團日期時間、結團日期時間、訂購日期、數量、消費金額，結果請依消費金額由多至少排序。

(二)請列出每團採購數量最多的成員及其採購訊息，包括成員名稱、手機號碼、團號、物品、數量、消費金額，結果請依採購數量由少至多排序顯示。

(三)請列出目前尚在採購中的團購團訊息，包括團號、開團日期時間、結團日期時間、物品、目前累計總數量，結果請依開團日期時間由近至遠排序顯示。

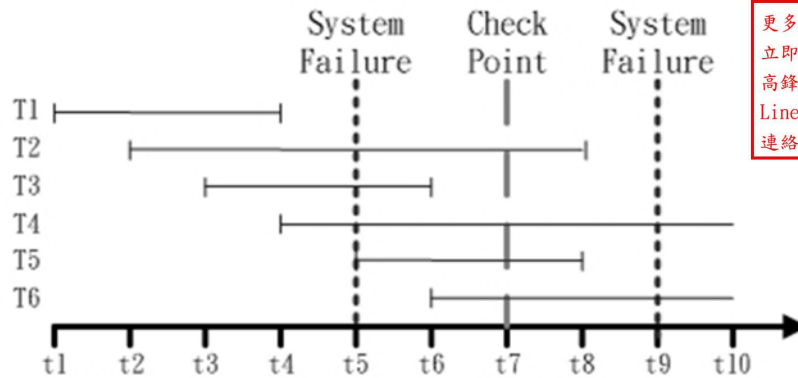
(四)請列出 2023 一、二兩個月份，參與團購團數>1 客戶的訊息，包括客戶名稱、手機號碼、參與的團數。

三、假設有如下外籍移工聘任契約的表格資料，請以符合 BCNF (Boyce-Codd Normal Form) 的 RDB (Relational Database) 資料表來表示。經 BCNF 正規化後的資料表，需同時註明 primary/foreign keys，並將正規化後的資料表分別以 xml 檔案格式來描述。(30 分)

註：答案需包括 BCNF 正規化後的資料表 (含內容、主鍵、外來鍵)、及正規化後資料表對應的 xml 檔案格式內容。

外籍移工聘任契約													
雇主 ID	雇主 姓名	雇主 電話	受照護者 ID	受照護者 姓名	受照護者 出生年月日	受照護者 性別	移工 ID	移工 姓名	移工 國籍	移工 出生年月日	移工 性別	契約 開始日期	契約 結束日期
B001	Alex	111111	C001	Owen	3/3/1930	M	E001	Ivy	Vietnam	6/6/1988	F	6/1/2009	5/31/2012
B001	Alex	111111	C002	Paula	5/5/1950	F	E002	Jane	Indonesia	6/6/1988	F	6/1/2009	5/31/2012
B002	Bob	222222	C001	Owen	3/3/1930	M	E003	Kevin	Indonesia	9/9/1988	M	6/1/2012	5/31/2018
B003	Connie	333333	C003	Quin	7/7/1970	F	E001	Ivy	Vietnam	6/6/1988	F	7/1/2012	6/30/2022
B004	Connie	444444	C004	Owen	9/9/1990	M	E004	Jane	Vietnam	8/8/1998	F	9/1/2022	8/31/2025

四、請以 Log-Based Recovery 資料復原模式為例，就如下的交易紀錄進程序，以表格說明 Deferred Update 及 Immediate Update (包括 undo/redo 及 undo/no-redo 兩種更新模式)，在 t5 or t9 時間點，發生非毀滅性系統故障(兩個時間的系統故障屬獨立事件)，T1~T6 交易紀錄應採取那種動作，來進行資料的復原？(20 分)



更多調查局考試科目的歷屆題庫
立即上網搜尋“調查局歷屆考古題懶人包”
高鋒公職補習班整理
Line@帳號: @gaofeng
連絡電話: 07-236-7296

代號：41460
頁次：1-1

112年公務人員特種考試司法人員、法務部調查局
調查人員、海岸巡防人員、移民行政人員考試及112年
未具擬任職務任用資格者取得法官遴選資格考試試題

考試別：調查人員
等別：三等考試
類科組：資訊科學組
科目：資訊安全實務
考試時間：2小時

更多調查局考試科目的歷屆題庫
立即上網搜尋“調查局歷屆考古題懶人包”
高鋒公職補習班整理
Line@帳號：@gaofeng
連絡電話：07-236-7296

座號：_____

※注意：(一)禁止使用電子計算器。

(二)不必抄題，作答時請將試題題號及答案依照順序寫在試卷上，於本試題上作答者，不予計分。

(三)本科目除專門名詞或數理公式外，應使用本國文字作答。

- 一、請條列並說明「數位證據保全標準作業程序」中，進行「電腦設備或儲存媒體蒐集」之作法。(25分)
- 二、請條列說明三項 IDPS (Intrusion Detection and Prevention System) 偵測技術，並就精準度、已知攻擊、未知攻擊、計算能力與策略調整方式等五個面向做比較。(25分)
- 三、請條列說明零信任 (Zero Trust) 的核心機制與六項組織應考量的零信任原則。(30分)
- 四、以下是張三和李四以 Diffie-Hellman key exchange 之技術為基礎欲產生共同密鑰，但未做取模運算 (Modulus)，所以也沒有選定 Diffie-Hellman key exchange 模數運算的質數，他們所選用的公開基礎參數 (底數) g 為 3。請從他們交換的參數破解出張三的秘密參數 X_A 、李四的秘密參數 X_B 以及他們產生的共同密鑰 Key。(需有推演計算的過程才給分)(20分)

張三：選定秘密參數 X_A ，後計算出公開參數 $Y_A = 27$ 傳給李四。

李四：選定秘密參數 X_B ，後計算出公開參數 $Y_B = 243$ 傳給張三。

張三、李四：各自計算出二人的共同密鑰 Key。

112年公務人員特種考試司法人員、法務部調查局
調查人員、海岸巡防人員、移民行政人員考試及112年
未具擬任職務任用資格者取得法官遴選資格考試試題

考試別：調查人員
等別：三等考試
類科組：資訊科學組
科目：資通網路
考試時間：2小時

更多調查局考試科目的歷屆題庫
立即上網搜尋“調查局歷屆考古題懶人包”
高鋒公職補習班整理
Line@帳號：@gaofeng
連絡電話：07-236-7296

座號：_____

※注意：(一)禁止使用電子計算器。

(二)不必抄題，作答時請將試題題號及答案依照順序寫在試卷上，於本試題上作答者，不予計分。

(三)本科目除專門名詞或數理公式外，應使用本國文字作答。

一、(一)假設鮑率 (baud) 一樣的情況下，使用 16-QAM (正交振幅調變，Quadrature Amplitude Modulation) 的調變技術的資料速率會是 QPSK (四相位偏移調變，Quadrature Phase Shift Keying) 的幾倍？請說明你的理由，否則不予計分。(10分)

(二)理論上，對於調變技術，若提升每個符號 (symbol) 負載的資訊量，可以提升資料速率，例如 256-QAM、1024-QAM...，為什麼在實務上無法無限的增大這個符號負載的資訊量呢？(10分)

二、(一)一個路由器的路由表，其有下列的無類別區間路由 (CIDR: Classless Inter-Domain Routing) 條目 (entry)：

位址 (address) / 遮罩 (mask)	下一跳 (next hop) 或 介面 (Interface)
162.53.40.0/23	Router 1
136.45.56.0/22	Interface 0
136.45.60.0/22	Interface 1
default	Router 2

則如果此路由器收到的封包其目的地位址是

(i) 136.45.57.14

(ii) 136.45.52.2

(iii) 162.53.56.7

那麼此路由器會分別如何轉發此封包？(需要詳細說明你的計算過程)(15分)

(二)有一個路由器，剛收到下列的新 IP 位址區塊：57.6.96.0/21，57.6.104.0/21，57.6.112.0/21，及 57.6.120.0/21。如果它們對外出去的網路線是同一條線路，那麼它們路由器的路由表條目可以聚合 (aggregated) 嗎？如果可以聚合，那聚合後的位址為何？(需要詳細說明你的計算過程)(5分)

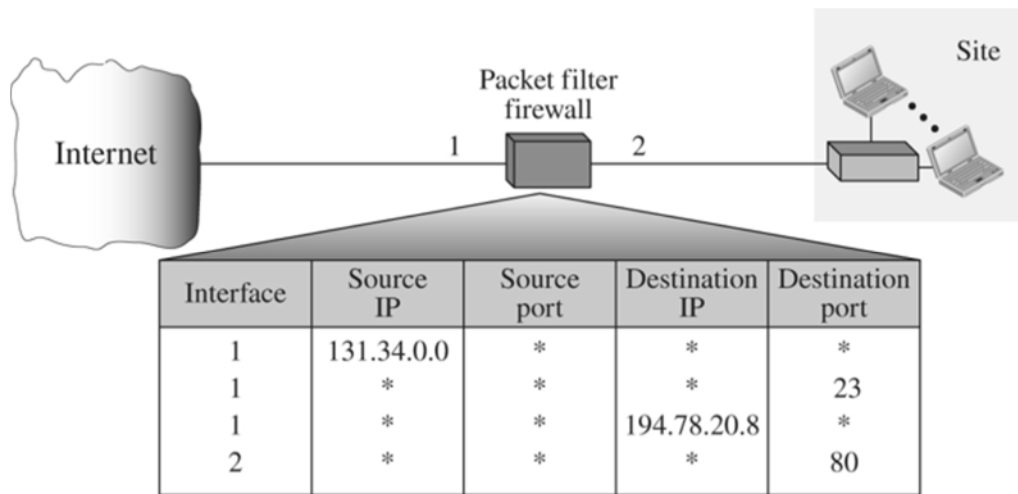
三、(一)請詳細說明網路上的流量控制 (flow control) 與壅塞控制 (congestion control) 有何差異。(10 分)

(二)有一個 TCP 的連線，其目前的壅塞視窗 cwnd 值是 3000，接收視窗 rwnd 值是 5000。若此傳送的主機已經傳送出 2000 bytes 而尚未得到確認回應 (ACK)，請問此傳送主機還可以再傳送多少的 bytes 出去？請詳細說明你的計算過程。(10 分)

四、(一)根據 TCP 協定，錯誤控制 (error control) 會在那兩層協定 (protocol layer) 處理？請說明這兩層在處理錯誤控制主要的不同點。(10 分)

(二)錯誤控制的機制之一，是採取自動重送機制，例如，STOP-AND-WAIT 協定，是屬於這一類的機制。請說明自動重送機制的基本方法為何？(請分別針對傳送方、接收方的機制說明)(10 分)

五、某個機構 (site) 使用封包過濾 (packet filter) 的防火牆 (firewall) 來進行進出封包的過濾，如下圖所示：



目前其封包過濾的表格如上圖所示，其中有四個條列規則，請說明這四個規則分別代表的意義為何？(20 分)

代號：10110-11410
40110-41510
50110-50210
63110-63710
頁次：4-1

111年公務人員特種考試司法人員、法務部調查局
調查人員、海岸巡防人員、移民行政人員考試及111年
未具擬任職務任用資格者取得法官遴選資格考試試題

考試別：司法人員、調查人員、海岸巡防人員、移民行政人員

等別：三等考試

類科組：各類科組

科目：國文（作文、公文與測驗）

考試時間：2小時

※注意：禁止使用電子計算器。

更多調查局考試科目的歷屆題庫
立即上網搜尋“調查局歷屆考古題懶人包”
高鋒公職補習班整理
Line@帳號：@gaofeng
連絡電話：07-236-7296

座號：_____

甲、作文與公文部分：

(一)請以藍、黑色鋼筆或原子筆在申論試卷上由左至右橫式作答，於本試題上作答者，不予計分。

(二)不得於試卷上書寫姓名或座號。

一、作文：（60分）

2019年耶魯大學的校長彼得·蘇羅維在畢業致詞中說：「今天可能比以往任何時代，都更容易知道你反對什麼，也比任何時代都更難以說出你追求什麼。」他甚至說：「有多少次我們尚未聽到一個想法就已經決定反對它了。」這種非理性的反應不只出現在美國，也出現在世界各地。仔細反省後，我們會發現「反對只是工作的開始，而不是結束」，之後必須經由理性的思維與判斷，才能使反對有一美好的結果。從另一方面來看，萬一必須放下反對，接納另一種意見，也不是犬儒的作為，而是邁向真理必須的學習。在臺灣這個多元文化的環境中，呈現出多樣化的處境、多樣化的思考、多樣化的價值……。面對這多樣化的社會，作為一個公民必須具有理性的包容與思維，方能共存共榮，請以「面對多元文化社會應有的理性思維」為題，作文一篇，其中必須包含實例說明部分。

二、公文：（20分）

臺灣四面環海，海洋影響著臺灣的生活、氣候、生態、飲食……，同時也為臺灣提供豐富的資源，我們和海洋的關係可謂休戚與共。試擬行政院環境保護署致各直轄市政府、縣市政府函：請強化海洋環境與生態維護，確保國民健康及永續利用海洋資源，並於三個月內檢視轄區境內海岸及海洋監測、預警、通報與應變系統之運作機制，若有造成海洋污染者，依據「海洋污染防治法」辦理，以提升國人生活品質。

乙、測驗部分：(20分)

代號：1101

(一)本試題為單一選擇題，請選出一個正確或最適當答案。

(二)共10題，每題2分，須用2B鉛筆在試卡上依題號清楚劃記，於本試題或申論試卷上作答者，不予計分。

- 1 黃先生回到母校，看見校長室牆上掛滿匾額，下列那一個題辭不適合出現？
(A)時雨春風 (B)澤被三臺 (C)絃歌盈耳 (D)功著杏林
- 2 「愛，是人類生命存在的心靈經驗之一，只有真切地面對自己以及所愛之人內在活生生的心靈，才能照見彼此不能相愛的障礙而加以克服。然而，他們卻遺忘了自己的存在，只是不斷地追逐著各種外在的知識，以為這樣就能幸福快樂。」
下列敘述何者最貼近本文的旨趣？
(A)知識的追逐讓人們忘了如何相愛
(B)體認自身之存在為追逐知識之本
(C)人經常忘記照見自己而產生了相愛的障礙
(D)相愛的根本在於面對彼此的內心而非知識
- 3 「美是一種生命整體存在感的湧現。當此際必然是物我兩忘，情景交融，渾成一片，而容不下絲毫的分辨與思維。當天邊飛過一抹彩霞，你只合目瞪口呆；連一句『好美啊』的呢喃，都已是心靈對此境的意識與抽離，也早已構成對美的留戀與破壞。」
根據上文，最符合美的感受是：
(A)盡在不言中 (B)物我保持距離
(C)感官與意識的交融 (D)生命主體的思維湧現
- 4 「大多數的商業圖表都是披薩，餡料不多以免消化不良，它能在短時間內提供資訊，用不著太多文字說明。客戶資料蒐集差不多了，就畫個條狀圖。計畫又訂出新的期限，就畫個時程圖。但有些會議需要很多說明，例如剛併購一家公司，要向高層主管解說營運策略如何調整，這時，披薩無法滿足胃口，要端出全套酒席，展示精細的圖表。這種圖表能醞釀創意，引發大家交換意見，進而解決問題。」
下列敘述，最符合上文觀點的是：
(A)披薩式圖表適用於基層會議，酒席式圖表適用於主管會議
(B)披薩式圖表適用於宣達要點，酒席式圖表適用於探討細節
(C)披薩式與酒席式圖表雖然各有功能，但皆應儘量少用文字
(D)披薩式與酒席式圖表雖然繁簡不一，但皆為引發充分討論

5 「有一座龐大的旅館，設備陳舊，管理鬆懈，營業額一落千丈。旅館的所有人聘請一位專家來從事革新和整頓。三個月後，專家對旅館的現況有了透徹的了解，提出一份詳細的計畫，主張把房子拆掉重新建造大樓，現有工作人員一律遣散，重新招考訓練。旅館所有人無法接受這樣的計畫，聘請另一位專家來擔任經理。這位專家在視察旅館的業務之後，下令換裝所有房間的自來水龍頭。新的龍頭，式樣美觀，操作方便，絕不漏水，旅客在半夜再也聽不到滴漏之聲，可以安享一夜好睡了。就這樣，新任經理從小處著手，積小為大，終於使旅館的作風煥然一新。旅客們發現，這家旅館的房子雖然陳舊，但是堅固；式樣雖然古老，但是引人。於是近者悅，遠者來。」

根據上文，旅館終能近悅遠來，其主要關鍵在於管理者：

- (A)不愛虛名，惟儉是尚 (B)前事不忘，後事之師
(C)圖難於其易，為大於其細 (D)毀譽無動於衷，榮辱在所不計

6 「有些公司誤以為科技能取代人力經驗所累積的技能與判斷力。資深的航太工程師因公司進行人事精簡，在勸退聲中離開崗位。但公司為了延續重要工作，又得重新僱用這些離職的工程師。有些看似『可有可無』的中階主管去職後，公司才了解到他們所經手的是關鍵性工作的相關知識，公司所損失的絕非那幾個正式職稱而已。」

下列選項，最符合上文旨意的是：

- (A)科技能創造知識價值卻無法取代勞力工作
(B)公司核心知識不宜因人事更迭而中斷傳承
(C)精簡人事成本必造成公司動盪缺乏向心力
(D)公司的人事規劃不可忽略中階主管的重要

7 「杜克大學的麥克·沙舍夫斯基是非常成功的大學籃球隊教練，他對這種評論曾有明智的評語。有位廣播節目評論員批評他在某場比賽的戰術指導，《華爾街日報》的記者問他對此有何反應，他回答：『大家都可以發表意見，但不是每個人都具備形成有價值意見所須掌握的資訊。我寧可聽我信任的人的意見，不聽脫口秀節目或報導。』」

上文中的「這種評論」是指：

- (A)缺乏專業的評論 (B)球壇權威的評論
(C)報紙刊載的評論 (D)吝於讚美的評論

8 「很久以前，人類都還光著腳走路。一位國王到某個偏遠的鄉間旅遊，由於路面崎嶇不平，有很多碎石頭，刺得他的腳板又痛又麻。回到王宮後，他下令要將國內所有道路都鋪上一層牛皮。這樣做，不只是為自己，還可造福他的人民，讓大家走路時不再受刺痛之苦。但即使殺光國內所有的牛，也湊不到足夠的皮革，而所花費的金錢、動用的人力，更不知有多少。這個辦法很愚蠢而且根本做不到，但因為是國王的命令，大家也只能搖頭嘆息。一位聰明的僕人大膽向國王提出建言：『國王啊！為什麼您要勞師動眾，犧牲那麼多頭牛，花費那麼多金錢呢？您何不只用兩小片牛皮包住您的腳呢？』國王聽了很驚訝，當下領悟，於是立刻收回成命，改採這個建議。據說，這就是『皮鞋』的由來。」

上文故事寓意，與下列何者最為相近？

- (A) 這個世界只有想不到的，沒有做不到的
- (B) 想改變世界，很難；要改變自己，則較為容易
- (C) 得到一件東西需要智慧，放棄一樣東西則需要勇氣
- (D) 當命運交給你一顆酸檸檬，你要想辦法把它做成一杯可口的檸檬汁

9 「我在臺灣各地賞鳥的旅行見聞中發現，除了年輕學生外，大部分的賞鳥人口係生活於都市中年以上的男女，他們多半已有家庭，趁休閒假日到野外旅行賞鳥。他們並不完全是美國鳥類學家法蘭克·查普曼所形容的：『每一個人的心中，都隱藏著一隻嚮往自由的鳥。』也不一定是如鳥類學者形容的，受到『火種』（啟發之意）的引燃。他們更不具有中國固有傳統，老莊哲學裡天人合一的信念，強調自然與人是一體的。他們也沒有明顯、強烈的『環境意識』烙印在心上。他們會感受到生態環境遭到污染、破壞，來自於經由賞鳥，發現鳥被捕殺，數量銳減與棲息環境縮小等因素，漸漸地也關心起自己周遭的領域。時日一久，他們的關心層面又擴大，不再止於看得見的鳥，正如別人接觸到其他的公害問題，已擴大憂疑到未來長遠的環境危機。」根據上文，下列有關「臺灣都市中年以上男女」的敘述，何者正確？

- (A) 從事賞鳥活動，是渴望得到心靈上的自由
- (B) 從事賞鳥活動，是為了保護瀕臨絕種的鳥類
- (C) 憂慮未來的環境危機，是出於本身具備的環境意識
- (D) 關心生態環境污染，是因感受到週遭領域逐漸破壞

10 承上題，下列選項最符合旨意的是：

- (A) 透過自然休閒旅遊，可以拓展生態環境保育觀念
- (B) 推廣天人合一的信念，可強化生態環境保育觀念
- (C) 欠缺生態環境保育意識，導致稀有珍貴鳥類絕種
- (D) 保護候鳥重要棲地，可提升發展生態觀光的潛力

測驗式試題標準答案

考試名稱：111年公務人員特種考試司法人員、法務部調查局調查人員、海岸巡防人員、移民行政人員考試及111年未具擬任職務任用資格者取得法官遴選資格考試

類科名稱：觀護人(選試少年事件處理法)、檢察事務官電子資訊組、監獄官(女)、司法事務官法律事務組、檢察事務官財經實務組、法院書記官、觀護人(選試社會工作概論)、行政執行官、司法事務官財經事務組、檢察事務官偵查實務組、監獄官(男)、公職法醫師、檢察事務官營繕工程組、公證人、調查工作組(選試韓文)、資訊科學組、財經實務組、調查工作組(選試德文)、營繕工程組、調查工作組(選試西班牙文)、醫學鑑識組、調查工作組(選試日文)、調查工作組(選試英文)、電子科學組、法律實務組、調查工作組(選試法文)、調查工作組(選試阿拉伯文)、化學鑑識組、調查工作組(選試俄文)、海巡行政、海洋巡邏科輪機組、移民行政(選試英文)、移民行政(選試日文)、移民行政(選試俄文)、移民行政(選試泰文)、移民行政(選試法文)、移民行政(選試越南文)、移民行政(選試印尼文)

科目名稱：國文(作文、公文與測驗)(試題代號：1101)

單選題數：10題

單選每題配分：2.00分

複選題數：

複選每題配分：

標準答案：

更多調查局考試科目的歷屆題庫
立即上網搜尋“調查局歷屆考古題懶人包”
高鋒公職補習班整理
Line@帳號：@gaofeng
連絡電話：07-236-7296

題號	第1題	第2題	第3題	第4題	第5題	第6題	第7題	第8題	第9題	第10題
答案	D	D	A	B	C	B	A	B	D	A

題號	第11題	第12題	第13題	第14題	第15題	第16題	第17題	第18題	第19題	第20題
答案										

題號	第21題	第22題	第23題	第24題	第25題	第26題	第27題	第28題	第29題	第30題
答案										

題號	第31題	第32題	第33題	第34題	第35題	第36題	第37題	第38題	第39題	第40題
答案										

題號	第41題	第42題	第43題	第44題	第45題	第46題	第47題	第48題	第49題	第50題
答案										

題號	第51題	第52題	第53題	第54題	第55題	第56題	第57題	第58題	第59題	第60題
答案										

題號	第61題	第62題	第63題	第64題	第65題	第66題	第67題	第68題	第69題	第70題
答案										

題號	第71題	第72題	第73題	第74題	第75題	第76題	第77題	第78題	第79題	第80題
答案										

題號	第81題	第82題	第83題	第84題	第85題	第86題	第87題	第88題	第89題	第90題
答案										

題號	第91題	第92題	第93題	第94題	第95題	第96題	第97題	第98題	第99題	第100題
答案										

備註：

111年公務人員特種考試司法人員、法務部調查局
調查人員、海岸巡防人員、移民行政人員考試及111年
未具擬任職務任用資格者取得法官遴選資格考試試題

考試別：調查人員

等別：三等考試

類科組：各組別

科目：綜合法政知識與英文（包括中華民國憲法、法學緒論、兩岸關係、英文）

考試時間：1小時

更多調查局考試科目的歷屆題庫
立即上網搜尋“調查局歷屆考古題懶人包”
高鋒公職補習班整理
Line@帳號：@gaofeng
連絡電話：07-236-7296

座號：_____

※注意：(一)本試題為單一選擇題，請選出一個正確或最適當答案。

(二)本科目共50題，每題2分，須用2B鉛筆在試卡上依題號清楚劃記，於本試題上作答者，不予計分。

(三)禁止使用電子計算器。

- 依憲法及增修條文規定，總統行使下列何種職權前，應先經立法院之議決或同意？
(A)任命行政院院長 (B)發布緊急命令 (C)解散立法院 (D)任命監察委員
- 依司法院大法官解釋及憲法訴訟法規定，下列何者屬於人民得聲請司法院大法官釋憲之標的？
(A)最高法院決議 (B)確定終局裁判 (C)行政處分 (D)高等法院座談會結論
- 憲法並無明文規定下列何者？
(A)國民 (B)領土 (C)國旗 (D)國徽
- 憲法第 159 條規定：「國民受教育之機會，一律平等」。有關本條規定之「受教育」係指下列何者？
(A)僅指憲法第 21 條所稱之國民教育 (B)係指國民教育以外之其他階段教育
(C)係指未受基本教育之國民所受之補習教育 (D)係指包含碩士班教育在內之各階段教育
- 依司法院釋字第 588 號解釋，立法機關得基於下列何者目的，藉由限制人民自由之管收措施，以貫徹人民法定義務之履行？
(A)社會之治安 (B)金融之秩序 (C)重大之公益 (D)經濟之發展
- 司法院大法官依憲法第 22 條曾承認之非明文權利，不包括下列何者？
(A)環境權 (B)人格權 (C)契約自由 (D)婚姻自由
- 關於法律保留原則，下列敘述，何者最為正確？
(A)涉及人身自由之限制，應以法律定之，屬於國會保留。惟法律已有明文規定者，亦得以法律具體明確之授權委由主管機關執行之
(B)涉及財產權之限制，應以法律定之，屬於國會保留
(C)對人民處以行政裁罰，處罰構成要件應以法律定之，屬於國會保留
(D)以不確定法律概念作為規範內容，應視不確定法律概念的目的、內容、範圍是否具體明確
- 依司法院大法官解釋，對於採取某些分類標準之法規範，應加強審查其是否符合平等保障之要求，下列何者非屬之？
(A)分類涉及難以改變之個人特徵
(B)分類屬於受有事實上或法律上之排斥或歧視者
(C)分類為社會上孤立隔絕之少數且為政治上之弱勢
(D)分類涉及國家考試之考選專業
- 有關立法委員，下列敘述何者正確？
(A)依憲法增修條文規定，立法委員任期 3 年
(B)立法委員，除現行犯外，非經立法院許可，不得逮捕或拘禁
(C)立法委員不得兼任官吏
(D)原住民立法委員 6 人由全體原住民選出
- 有關地方自治，下列敘述何者錯誤？
(A)實施地方自治之組織須具備法人性質，有獨立法人格
(B)原住民族之地方自治已制定法律予以保障
(C)地方自治團體須具備處理地方事務之權力
(D)地方事務範圍內，地方自治團體可自主決定處理方式

- 11 依中央法規標準法之規定，下列何者不是法規適用之原則？
(A)未經修正之舊特別法優先於修正後之新普通法
(B)案件受理後如經修法，原則上適用修法後之新法規
(C)案件受理後如經修法，原則上適用有利於當事人之法規
(D)準用之法規如經修正，應繼續準用修正前之舊法規
- 12 進行法律解釋時，在特定法律概念文義範圍內，挑選出最符合規範目的之解釋，係屬下列何種法律解釋方法？
(A)類推適用 (B)目的性擴張 (C)目的解釋 (D)目的性限縮
- 13 依司法院大法官解釋，下列有關「權力分立」原則之敘述，何者正確？
(A)立法院不能將行政院對於國家通訊傳播委員會之人事決定權予以實質剝奪或逕行取而代之
(B)行政院得就涉及國家重要政策變更之法定預算，依其合義務之裁量，自行裁減經費或變動執行
(C)為使監察院行使職權、發揮功能，立法院有義務通過總統就監察委員之提名人選
(D)立法院調查權之行使，以文件調閱為限
- 14 A 股份有限公司股東甲，於本年度 A 公司之股東大會行使表決權時，下列敘述何者正確？
(A)甲若將 A 公司之股東會之委託書交給代理人後，即無法再親自出席
(B)甲若以電子投票行使表決權，即無法再親自出席
(C)甲若以電子投票行使表決權，即視為親自出席股東會，所以仍得提出臨時動議
(D)甲若以電子投票後再委託代理人出席，以委託代理人出席行使之表決權為準
- 15 勞動基準法第 22 條之 1 關於派遣事業單位積欠派遣勞工工資之規定，下列敘述何者正確？
(A)派遣勞工僅得向派遣事業單位請求給付積欠工資
(B)經主管機關處罰或依第 27 條規定限期令其給付而屆期未給付者，派遣勞工亦得請求要派單位給付
(C)要派單位應自派遣勞工請求之日起 15 日內給付之
(D)要派單位依規定給付者，不得向派遣事業單位求償
- 16 給付遲延，乃債務不履行類型之一。關於給付遲延，下列敘述何者錯誤？
(A)給付有確定期限者，債務人自期限屆滿時起，負遲延責任
(B)因不可歸責於債務人之事由，致未為給付者，債務人不負遲延責任
(C)遲延後之給付，於債權人無利益者，債權人得拒絕其給付，並得請求賠償因不履行而生之損害
(D)遲延之債務，以支付金錢為標的者，債權人僅得請求遲延利息
- 17 下列何種物品，法院無法宣告沒收？
(A)違禁物 (B)明知他人違法行為而取得之犯罪所得
(C)供犯罪所用而屬於犯罪行為人之物 (D)已實際合法發還被害人之犯罪所得
- 18 甲乙為同居多年之伴侶，並共同育有 6 歲大之女兒丙。然甲有酗酒習慣，且酒後常辱罵以及毆打乙。試問乙得否向法院聲請保護令禁止甲接觸丙？
(A)否，因為丙還未成年
(B)否，因為丙並非家庭暴力之被害人
(C)可以，因為丙為被害人之直系血親
(D)可以，因為丙為家庭暴力防治法中目睹家庭暴力之兒童
- 19 下列關於法律的敘述，何者錯誤？
(A)法律是人類特有之現象
(B)人類以外的動物植物山川星辰等自然界，原則上不涉及法律
(C)自然法論從自然界之規律，找出自然律 (rules of nature)
(D)自然權利論是近代歷史的產物

- 20 依現行民法規定，有關選任未成年人之監護人的敘述，下列何者錯誤？
(A) 未成年人 A 若已結婚，即使無父母或父母均不能行使親權，毋須為其設置監護人
(B) 父母若到都市工作賺錢，將未成年子女 A 交由故鄉的祖父母照顧，可以書面委託祖父母就特定事項行使監護職務
(C) 最後行使、負擔對於未成年子女 A 之親權的父或母，得以遺囑指定監護人
(D) 未成年人 A 的父母、祖父母以及兄姊若均因土石流而往生，父母未留遺囑，則好心收留 A 之鄰居阿姨，不能被法院選為監護人
- 21 在胡錦濤時代，中共的政治體制時常被形容為「集體領導」制。請問下列那個機構的設置與運作最足以符合此一特質？
(A) 國防部 (B) 商務部
(C) 中共中央政治局常委會 (D) 外交部
- 22 在以黨領政的中國大陸，各級政府都有著黨籍與公職首長的區別。現在以中國大陸的直轄市為例，下列那一個職位被俗稱為「二把手」？
(A) 市委書記 (B) 市長 (C) 市財政局長 (D) 市紀律檢查委員會書記
- 23 中共政治繼承中常被說有所謂「七上八下」的非正式政治規則，這邊的數字「七」與「八」所指涉的是什麼？
(A) 就讀學校之排名 (B) 所擔任職位之職等 (C) 年紀 (D) 升遷次數
- 24 若有大陸地區人民要來臺投資，請問許可辦法中設定的我國主管機關是：
(A) 法務部 (B) 大陸委員會 (C) 內政部 (D) 經濟部
- 25 所謂中共的「十四五」規劃，所指為何？
(A) 第十四個五年軍事安全長期目標規劃 (B) 社會安全與環境保護第十四個五年規劃
(C) 中共黨建第十四個五年規劃 (D) 國民經濟和社會發展第十四個五年規劃
- 26 若有對夫妻，其中一方是臺灣地區人民，而另一方為中國大陸地區人民。請問其結婚或離婚的效力將以何地的法律為準？
(A) 大陸地區之法律 (B) 臺灣地區之法律
(C) 依照妻子一方所屬地區的法律 (D) 依照丈夫一方所屬地區的法律
- 27 大陸地區人民經許可入境臺灣地區，若被發現從事與許可目的不符之活動，且有危害公共秩序的急迫考量，按照我國法律應如何處理？
(A) 得不經審查會審查，由內政部強制其出境 (B) 得不經審查會審查，由外交部強制其出境
(C) 得不經審查會審查，由法務部強制其出境 (D) 得不經審查會審查，由交通部強制其出境
- 28 美國眾議院在 2016 年，通過「六項保證」。請問下列何者關於「六項保證」的陳述是正確的？
(A) 美國將協助促成兩岸領導人會面
(B) 美國沒有計畫要修改《臺灣關係法》
(C) 美國將盡力協助臺灣以主權國家身分加入國際組織
(D) 美國將保證臺灣民主免於來自對岸假訊息的侵擾
- 29 就臺灣地區與大陸地區人民關係條例中的規定，若有企業經許可僱用在臺灣工作之大陸地區人民，此人受僱期間不得超過多久？
(A) 3 個月 (B) 6 個月 (C) 12 個月 (D) 15 個月
- 30 中共時常在對美外交中提及所謂「三個聯合公報」，呼籲美方尊重這些文件，請問這三公報所指為何？
(A) 重慶公報、交流公報、建交公報 (B) 上海公報、建交公報、七一四公報
(C) 南京公報、交流公報、八一五公報 (D) 上海公報、建交公報、八一七公報
- 31 The manager is very careful about quality control; he always says that the problems we ignore now will come back to _____ us.
(A) fascinate (B) highlight (C) force (D) haunt
- 32 There have been _____ discussions with strong negative emotions for the new power plant: Some think it would bring jobs, while others say it would damage the natural environment.
(A) warmly (B) thermal (C) steamy (D) heated

- 33 Most castles were made from stone instead of timber because stone is more _____ to fire than wood.
(A) constant (B) defendant (C) insistent (D) resistant
- 34 The deadline for voter registration is this Friday; however, if you are ill or out of the country, you may have a month's _____.
(A) extension (B) intention (C) expansion (D) inclusion
- 35 You need to renew your passport as soon as possible before it becomes out of date and _____.
(A) abolished (B) invalid (C) negated (D) unconvincing
- 36 The classroom windows should be left open so students will not feel _____.
(A) bewildered (B) complicated (C) disorganized (D) suffocated
- 37 If you have a known or diagnosed allergy to a COVID-19 vaccine _____, you should not get vaccinated.
(A) ingredient (B) syringe (C) symptom (D) insignia
- 38 The islanders asserted that dumping radioactive wastes in the sea was an act of _____.
(A) insanity (B) hospitality (C) inquiry (D) hesitation
- 39 The teachers' _____ methods of students' performances produce controversial results across the country based on a core curriculum.
(A) parliament (B) commandment (C) assessment (D) amendment
- 40 Thanks to modern _____, crops now grow abundantly in areas where once nothing but cacti and sagebrush could live.
(A) infection (B) inflation (C) irritation (D) irrigation
- 41 Collective trauma finds outlet in public _____ of a community or a nation, as it seems to remember or forget a painful period in its history.
(A) articulation (B) approbation (C) arbitration (D) approximation
- 42 The committee required that all the sports players undergo a _____ drug test before competing in the championship.
(A) discretionary (B) frivolous (C) mandatory (D) volitional
- 43 It was such a _____ sight when they saw swarms of starving children seeking food on the streets.
(A) remedial (B) pathetic (C) eligible (D) fragrant
- 44 Algonkian-speaking Native Americans greeted the Pilgrims who _____ on the eastern shores of what is now New England.
(A) steered (B) stooped (C) settled (D) shattered
- 45 We brought back a model of Taipei 101 as a _____ of our trip to Taipei last month.
(A) vessel (B) relic (C) souvenir (D) trophy
- 46 The pandemic has _____ for all parents and teachers how indispensable online learning is for education today.
(A) underscored (B) undermined (C) unleashed (D) undergone
- 47 The weather forecast has said that there may be a temporary break before _____ rain returns on Monday.
(A) respective (B) charitable (C) persistent (D) suspicious
- 48 More than 280 people have been _____ from a ferry in northwestern Greece that caught fire overnight while heading to southern Italy in February.
(A) deserted (B) implemented (C) evacuated (D) leaked
- 49 The transit agency has seen rampant virus infections among employees and difficulties in hiring and _____ drivers.
(A) retaining (B) compiling (C) evading (D) obstructing
- 50 Instead of concentrating on incentivizing short-term transactive behaviors, today's firms focus on building authentic and _____ relationships with customers.
(A) transitional (B) topical (C) sustainable (D) transparent

測驗式試題標準答案

考試名稱：111年公務人員特種考試司法人員、法務部調查局調查人員、海岸巡防人員、移民行政人員考試及111年未具擬任職務任用資格者取得法官遴選資格考試

類科名稱：營繕工程組、財經實務組、調查工作組(選試韓文)、電子科學組、調查工作組(選試德文)、資訊科學組、調查工作組(選試日文)、化學鑑識組、調查工作組(選試阿拉伯文)、醫學鑑識組、法律實務組、調查工作組(選試法文)、調查工作組(選試英文)、調查工作組(選試俄文)、調查工作組(選試西班牙文)

科目名稱：綜合法政知識與英文(包括中華民國憲法、法學緒論、兩岸關係、英文)(試題代號：3401)

單選題數：50題

單選每題配分：2.00分

複選題數：

複選每題配分：

標準答案：

更多調查局考試科目的歷屆題庫
立即上網搜尋“調查局歷屆考古題懶人包”
高鋒公職補習班整理
Line@帳號：@gaofeng
連絡電話：07-236-7296

題號	第1題	第2題	第3題	第4題	第5題	第6題	第7題	第8題	第9題	第10題
答案	D	B	D	D	C	A	A	D	C	B

題號	第11題	第12題	第13題	第14題	第15題	第16題	第17題	第18題	第19題	第20題
答案	D	C	A	D	B	D	D	D	C	D

題號	第21題	第22題	第23題	第24題	第25題	第26題	第27題	第28題	第29題	第30題
答案	C	B	C	D	D	B	A	B	C	D

題號	第31題	第32題	第33題	第34題	第35題	第36題	第37題	第38題	第39題	第40題
答案	D	D	D	A	B	D	A	A	C	D

題號	第41題	第42題	第43題	第44題	第45題	第46題	第47題	第48題	第49題	第50題
答案	A	C	B	C	C	A	C	C	A	C

題號	第51題	第52題	第53題	第54題	第55題	第56題	第57題	第58題	第59題	第60題
答案										

題號	第61題	第62題	第63題	第64題	第65題	第66題	第67題	第68題	第69題	第70題
答案										

題號	第71題	第72題	第73題	第74題	第75題	第76題	第77題	第78題	第79題	第80題
答案										

題號	第81題	第82題	第83題	第84題	第85題	第86題	第87題	第88題	第89題	第90題
答案										

題號	第91題	第92題	第93題	第94題	第95題	第96題	第97題	第98題	第99題	第100題
答案										

備註：

代號：41440
頁次：1-1

111年公務人員特種考試司法人員、法務部調查局
調查人員、海岸巡防人員、移民行政人員考試及111年
未具擬任職務任用資格者取得法官遴選資格考試試題

考試別：調查人員
等別：三等考試
類科組：資訊科學組
科目：系統分析與設計
考試時間：2小時

更多調查局考試科目的歷屆題庫
立即上網搜尋“調查局歷屆考古題懶人包”
高鋒公職補習班整理
Line@帳號：@gaofeng
連絡電話：07-236-7296

座號：_____

※注意：(一)禁止使用電子計算器。

(二)不必抄題，作答時請將試題題號及答案依照順序寫在試卷上，於本試題上作答者，不予計分。

(三)本科目除專門名詞或數理公式外，應使用本國文字作答。

- 一、系統分析階段為了搭配使用案例圖（Use Case Diagram），會輔以操作概念與情境（Operational Concepts and Scenarios）詳細說明，且多以表格方式呈現，除了使用案例名稱、使用案例代碼、主要角色、使用案例類型欄位外，還有許多資訊欄位，請說明這些資訊欄位的名稱與定義內容，並以網路報稅線上信用卡繳稅舉例說明。（20分）
- 二、請說明統一塑模語言（Unified Modeling Language）中循序圖（Sequence Diagram）的使用時機，並詳細說明非同步與同步的訊息傳遞方式與畫圖方式。（25分）
- 三、請說明能力成熟度模型整合（Capability Maturity Model Integration；CMMI）與網宇安全成熟度模型認證（Cybersecurity Maturity Model Certification；CMMC）的目的並比較各自成熟度之差異及優缺點。（40分）
- 四、CMMI 致力於數個感興趣的領域，包括採購、開發及服務等，而 CMMI 模型框架可被用來評價組織的過程成熟度外，請問此模型如何指導或規範政府在資訊系統委外開發或改版過程中順利達成組織目標。（15分）

111年公務人員特種考試司法人員、法務部調查局
調查人員、海岸巡防人員、移民行政人員考試及111年
未具擬任職務任用資格者取得法官遴選資格考試試題

考試別：調查人員
等 別：三等考試
類科組：資訊科學組
科 目：資料庫應用
考試時間：2 小時

更多調查局考試科目的歷屆題庫
立即上網搜尋“調查局歷屆考古題懶人包”
高鋒公職補習班整理
Line@帳號：@gaofeng
連絡電話：07-236-7296

座號：_____

※注意：(一)禁止使用電子計算器。

(二)不必抄題，作答時請將試題題號及答案依照順序寫在試卷上，於本試題上作答者，不予計分。

(三)本科目除專門名詞或數理公式外，應使用本國文字作答。

一、陳品山 (Dr. Peter Chen) 所提出的個體關係模型 (Entity-Relationship Model, 簡稱 ER Model) 包含那三個主要的塑模概念 (Modeling Construct) ? 請分別定義這三個塑模概念。(20 分)

二、ANSI/SPARC 發布一個資料庫系統架構，稱之為三層綱要架構 (three-schema architecture)。

(一)這個三層綱要架構包含那三層綱要？請分別定義這三層綱要。(20 分)

(二)資料獨立 (data independence) 是資料庫系統的優點與目標，可分為邏輯資料獨立 (logical data independence) 與實體資料獨立 (physical data independence) 兩種，請在資料庫系統的三層綱要架構下分別定義這兩種資料獨立。(10 分)

三、請分別定義下列四個關聯式資料庫正規化的概念：

(一)正規化 (normalization) (5 分)

(二)第一正規型式 (first normal form) (5 分)

(三)第二正規型式 (second normal form) (10 分)

(四)第三正規型式 (third normal form) (10 分)

四、(一)請定義多使用者資料庫系統 (multi-user database systems) 中所使用的並行控制 (concurrency control) 機制。(10 分)

(二)鎖定 (locking) 機制為最常使用的一種並行控制機制，請定義之。(10 分)

代號:41460
頁次:1-1

111年公務人員特種考試司法人員、法務部調查局
調查人員、海岸巡防人員、移民行政人員考試及111年
未具擬任職務任用資格者取得法官遴選資格考試試題

考試別：調查人員
等 別：三等考試
類科組：資訊科學組
科 目：資訊安全實務
考試時間：2小時

更多調查局考試科目的歷屆題庫
立即上網搜尋“調查局歷屆考古題懶人包”
高鋒公職補習班整理
Line@帳號：@gaofeng
連絡電話：07-236-7296

座號：_____

※注意：(一)禁止使用電子計算器。

(二)不必抄題，作答時請將試題題號及答案依照順序寫在試卷上，於本試題上作答者，不予計分。

(三)本科目除專門名詞或數理公式外，應使用本國文字作答。

一、請完整寫出下列名詞的全名，並說明其功能。(每小題5分，共25分)

(一) ISAC

(二) SOC

(三) CERT

(四) CI

(五) CII

二、資安的核心概念是風險管理，請說明資安的三個要素及風險處理之四個對策。(25分)

三、請說明識別 (identification) 與認證 (authentication) 之差異。另請舉例說明多因子認證中，所知之事、所持之物、與所具之形之意義，並舉例說明一個雙因子認證之作法。(25分)

四、依據資通安全事件通報及應變辦法之規定，公務機關知悉發生資通安全事件時，最遲應於多久時間內通報？通報內容應包括那七個項目？(25分)

代號：41420
頁次：1-1

111年公務人員特種考試司法人員、法務部調查局
調查人員、海岸巡防人員、移民行政人員考試及111年
未具擬任職務任用資格者取得法官遴選資格考試試題

考試別：調查人員
等別：三等考試
類科組：資訊科學組
科目：資通網路
考試時間：2小時

更多調查局考試科目的歷屆題庫
立即上網搜尋“調查局歷屆考古題懶人包”
高鋒公職補習班整理
Line@帳號：@gaofeng
連絡電話：07-236-7296

座號：_____

※注意：(一)禁止使用電子計算器。

(二)不必抄題，作答時請將試題題號及答案依照順序寫在試卷上，於本試題上作答者，不予計分。

(三)本科目得以本國文字或英文作答。

一、請試述下列名詞之意涵：(每小題5分，共20分)

- (一) ARP
- (二) DNS
- (三) DHCP
- (四) NAT

二、國際標準組織 (ISO, International Standard Organization) 提出「開放式系統互連參考模型」(Open System Interconnection Reference Model)，將網路架構分成七層，請說明傳輸層 (Transport Layer) 的主要功能。(15分)

三、在網路的世界裡，每一個連上網路的裝置都必須有一個唯一的位址，稱為 IP 位址。請回答以下問題：

- (一)以 IPv4 而言，IP 位址可分為 5 類：Class A 到 Class E，請問這 5 類的分類規則為何？(15分)
- (二)承上題，請列出各 Class 位址分別占所有 IP 位址空間的比例，從 Class A 至 Class E，依序為何？(10分)

四、在無線網路中，由於無線裝置多是以電池做為電量的來源。因此為了節省無線裝置的電量消耗，常常會設計省電的機制。請回答以下問題：

- (一)請說明 Power Saving 機制的目的為何？(8分)
- (二)請說明 Power Control 機制的目的為何？(7分)

五、IEEE 802.11 是目前無線區域網路主要採用的通訊協定，在 IEEE 802.11 的協定中會使用四手交握 (Four-Way Handshake) 的方式在收送兩端完成一次的資料傳輸。請回答以下問題：

- (一)請解釋四手交握的進行方式。(10分)
- (二)IEEE 802.11 的協定使用四手交握的方式，而不採用兩手交握 (Two-Way Handshake) 的方式，其目的為何？請舉例說明。(10分)
- (三)承(二)題，在什麼情況下，IEEE 802.11 的協定會使用四手交握的方式，而不採用兩手交握的方式呢？(5分)

代號：10110-11610
40110-41510
50110-50210
70110-70710
頁次：3-1

110年公務人員特種考試司法人員、法務部調查局
調查人員、海岸巡防人員、移民行政人員考試及110年
未具擬任職務任用資格者取得法官遴選資格考試試題

考試別：司法人員、調查人員、海岸巡防人員、移民行政人員

等別：三等考試

類科組：各類科組

科目：國文（作文、公文與測驗）

考試時間：2小時

※注意：禁止使用電子計算器。

更多調查局考試科目的歷屆題庫
立即上網搜尋“調查局歷屆考古題懶人包”
高鋒公職補習班整理
Line@帳號：@gaofeng
連絡電話：07-236-7296

座號：_____

甲、作文與公文部分：

- (一)請以藍、黑色鋼筆或原子筆在申論試卷上由左至右橫式作答，於本試題上作答者，不予計分。
(二)不得於試卷上書寫姓名或座號。

一、作文：（60分）

充滿挑戰的現代社會，挫折難免，師長親友常會鼓勵我們「樂觀」以對，因為「樂觀」能帶給人們希望，更有信心面對考驗。但有時太過樂觀也可能讓我們錯估形勢，無法預先做好充足準備。你對「樂觀」有什麼看法？是否曾因樂觀而順利度過灰暗時光？或大意失荊州？請以「我對樂觀的看法」為題，作文一篇，文長不限。

二、公文：（20分）

依據內政部統計，臺灣65歲以上老人至108年底已逾15%，正式邁入「高齡社會」，而隨著人口老化，失智人口亦明顯增加，衛生福利部推估，臺灣108年失智症人口已超過28萬人。為使失智症個案盡可能留在家裡或社區中生活，需提供早期介入服務，以期延緩失智病程的進展，提升生活品質及降低照顧成本。衛生福利部自106年起推動「失智照護服務計畫」，因失智人口增加快速，需不斷提升整體失智照護服務量能及品質，故仍有持續辦理該計畫之必要。試擬衛生福利部函直轄市及各縣（市）政府衛生局，請積極宣導「失智照護服務計畫」資訊。

乙、測驗部分：（20分）

代號：1101

- (一)本測驗試題為單一選擇題，請選出一個正確或最適當的答案，複選作答者，該題不予計分。
(二)共10題，每題2分，須用2B鉛筆在試卡上依題號清楚劃記，於本試題或申論試卷上作答者，不予計分。

1 下列情境語句，何者用法最為適當得體？

- (A)參與活動應邀致詞：承蒙大會的邀請，我能夠蒞臨這場難得的盛會，感到非常榮幸
(B)收到禮物表達謝意：這個禮物很別致，而且正是我喜歡的，您的一片好意我心領了
(C)領獎代表發表感言：這次能夠獲獎，不僅是我們幾個人策勵的成果，更是整個部門群策群力的成果
(D)主辦單位宣傳活動：這場展覽本局同仁花費許多心血籌備，歡迎民眾利用假期踴躍前來瞻仰作品

2 下列題辭何者使用正確？

- (A) 李醫生高升醫院院長，病患家屬送上匾額「杏壇春暖」
- (B) 黃小姐的同學搬新家，她送上一份禮物並題上「宜室宜家」
- (C) 王先生參加長官嫁女兒的喜酒，禮金紅包題上「一字千金」
- (D) 鄰居的兒子大學畢業，陳太太登門拜訪並祝賀他「鵬翮高搏」

3 「日新月異的數位傳播科技確實為人類創造無比便利的溝通工具，亦確實讓我們陷入垃圾與不實訊息的泥淖，關鍵仍在我們是否能透過成熟的素養，發揮新科技所帶來的正面潛能，抑制新科技可能產生的負面作用。沒有資訊，我們固然沒法參與公共生活；但如果沒有優質與真實的資訊，我們也不可能擁有美好的公共生活。我們以前常說陽光、空氣與水是生命的三要素，如今，資訊已是現代人能否擁有美好生活的第四要素。要在數位時代真正成為傳播的主人，扮演好傳播主人的角色，就必須具備現代公民的媒體素養！」

根據上文，下列敘述何者最接近文意？

- (A) 垃圾訊息是數位傳播科技創造溝通便利的陷阱
 - (B) 新科技帶來的負面作用是讓我們規避參與公共生活
 - (C) 現代公民的媒體素養，扮演著我們參與美好公共生活的決定要素
 - (D) 傳播主人的角色，就是讓優質與真實的資訊成為「傳播科技」的第四要素
- 4 「閱讀文學讓我們理解語言除了通情達意外，更是一個充滿隱喻象徵的符號機器，層層轉折，拒絕化約成簡單的公式或真理。只有在閱讀，而且是細讀文學時，我們的注意力最終導向語言。在爬梳字句、解析章節的過程裏，我們認識意義的產生千頭萬緒，總是在虛與實，創造與再創造的緊張關係中發生。」

下列選項與上文旨意最為相近的是：

- (A) 語言的通情達意是文學的重要功能
 - (B) 經由爬梳字句、解析章節，我們可以創造語言的虛與實
 - (C) 語言是一套符號機器，細讀文學的目的是為了找到解答的公式
 - (D) 細讀文學是認識語言細膩繁複的操作，因而產生多層次的意義
- 5 「遲歸的夜，你的車聲是天籟中唯一的單音。我一向與阿嬪同床，知道她不等到你歸來則不能睡，有時聽到她在半睡之中自嘆自艾的鼻息，也開始心寒，怕你出事。你的車聲響在無數的蛙鳴蟲唧之中，我才鬆了心，與世無爭。你推開未拴的木門進入大廳，跨過門檻轉到阿嬪的房裏請安，你們的話中話我都聽進耳裏，你以告解的態度說男人嗜酒有時是人在江湖不得不，有時是為了心情鬱促。阿嬪不免責備你，家裡釀的酒也香，你要喝幾罈就喝。也免得妻小白白擔了一段心腸。」

這一段文字描寫的是：

- (A) 母親對祖父夜歸的擔心
- (B) 作者對父親夜歸的掛念
- (C) 阿嬪對祖父嗜酒的責備
- (D) 父親對自己嗜酒的愧疚

- 6 「苦難的生活經驗，給予我本身濃烈的悲劇感，也激發了我內心恆常懷有的，人道的悲情。當我在燈光世界裡執筆為文的時刻，這種感受更深更切，刻骨銘心。我始終認為：悲劇不是沉落，而是人生儆醒和激發的起點。因此我筆下的悲劇，多特別著重於人對命運、環境、性格的不歇抗爭，顯示出生命本身就是一種壯美的完成！」
- 下列選項，何者最接近文中作者對生命歷程的體悟？
- (A)風波歷盡晚香在，分與人間證歲寒 (B)鴛鴦繡了從教看，莫把金針度與人
(C)我是夢中傳彩筆，欲書花葉寄朝雲 (D)春心莫共花爭發，一寸相思一寸灰
- 7 承上題，下列敘述，何者最不符合本文意旨？
- (A)作者企圖透過悲劇來呈現生命的光輝 (B)作者認為悲劇是不斷抗爭以獲得勝利
(C)作者希望悲劇能喚起對抗失敗的意志 (D)作者的悲劇意識造成了他生命的苦難
- 8 「貼標籤讓我們活在安全熟悉的界限內，標籤幫我們整理世界，定位一切，讓一切變得熟悉。但標籤也使我们僵化。標籤意味著事物永遠不變，只有一種樣貌。」
- 下列選項，對於本文所述「貼標籤」之闡釋，何者錯誤？
- (A)來自於人類的便宜行事 (B)易使我們對人產生成見
(C)雖有作用但會阻礙創意 (D)使我們習於理性的決定
- 9 「但願眼淚化成琉璃，驚恐的臉容鐫刻成碑。然後我們才有海一般的氣度去原諒，原諒如同驚濤駭浪一般巨大的振動，所帶給我們脆弱的生命以打擊，以震驚、以惶恐、以錯愕，因而重新體會在自然的覆載之下，我們是如何的渺小。而渺小才使得我們學會謙卑，學會珍惜，學會互助，學會關懷，使我們從自私自傲的膨脹心態回歸到敬畏的起點，謙虛的低處。」
- 下列選項，何者最能表達上文主旨？
- (A)學習原諒與寬容，生命才會綿延長久
(B)遭受大自然的反撲是人類無解的宿命
(C)人類必須學習敬天謙遜，與自然和諧共處
(D)人類尊天敬神，是為了避免自然災害的降臨
- 10 「所謂作家，無非是一個人自己在說話、在寫作，他人可聽可不聽，可讀可不讀，既不是為民請命的英雄，也不值得作為偶像來崇拜，更不是罪人或民眾或政治勢力的敵人。之所以有時竟跟著作品受難，只因為是他人的需要。當權勢者需要製造幾個敵人來轉移民眾的注意力的時候，作家便成為一種犧牲品。而更為不幸的是，弄暈了的作家竟也以為當祭品是一種光榮。」
- 下列選項，最符合本文旨意的是：
- (A)作家的作品要積極的為民喉舌，與當權者對抗，展現威武不能屈的大丈夫精神
(B)寫作不必文以載道，也無須刻意抨擊時政，作家不必將自己塑造為社會良心的代言人
(C)文字的表達及創作之事要避免市場導向與流俗，曲高和寡才是作家本色及創作分內之事
(D)創作的過程必須要有冷靜的頭腦，孤獨的氣氛，摒除一切外務紛擾，作品才能展現深度

測驗式試題標準答案

考試名稱：110年公務人員特種考試司法人員、法務部調查局調查人員、海岸巡防人員、移民行政人員考試及110年未具擬任職務任用資格者取得法官遴選資格考試

類科名稱：公職法醫師、檢察事務官電子資訊組、心理輔導員、心理測驗員、觀護人(選試社會工作概論)、監獄官(男)、司法事務官法律事務組、行政執行官、檢察事務官財經實務組、檢察事務官營繕工程組、監獄官(女)、司法事務官財經事務組、法院書記官、觀護人(選試少年事件處理法)、檢察事務官偵查實務組、公證人、調查工作組(選試法文)、資訊科學組、化學鑑識組、調查工作組(選試俄文)、調查工作組(選試日文)、電子科學組、調查工作組(選試韓文)、財經實務組、營繕工程組、調查工作組(選試德文)、調查工作組(選試西班牙文)、法律實務組、調查工作組(選試阿拉伯文)、調查工作組(選試英文)、醫學鑑識組、海巡行政、海洋巡邏科輪機組、移民行政(選試印尼文)、移民行政(選試日文)、移民行政(選試泰文)、移民行政(選試葡萄牙文)、移民行政(選試越南文)、移民行政(選試英文)、移民行政(選試俄文)

科目名稱：國文(作文、公文與測驗)(試題代號：1101)

更多調查局考試科目的歷屆題庫
立即上網搜尋“調查局歷屆考古題懶人包”
高鋒公職補習班整理
Line@帳號：@gaofeng
連絡電話：07-236-7296

單選題數：10題

單選每題配分：2.00分

複選題數：

複選每題配分：

標準答案：

題號	第1題	第2題	第3題	第4題	第5題	第6題	第7題	第8題	第9題	第10題
答案	C	D	C	D	B	A	D	D	C	B

題號	第11題	第12題	第13題	第14題	第15題	第16題	第17題	第18題	第19題	第20題
答案										

題號	第21題	第22題	第23題	第24題	第25題	第26題	第27題	第28題	第29題	第30題
答案										

題號	第31題	第32題	第33題	第34題	第35題	第36題	第37題	第38題	第39題	第40題
答案										

題號	第41題	第42題	第43題	第44題	第45題	第46題	第47題	第48題	第49題	第50題
答案										

題號	第51題	第52題	第53題	第54題	第55題	第56題	第57題	第58題	第59題	第60題
答案										

題號	第61題	第62題	第63題	第64題	第65題	第66題	第67題	第68題	第69題	第70題
答案										

題號	第71題	第72題	第73題	第74題	第75題	第76題	第77題	第78題	第79題	第80題
答案										

題號	第81題	第82題	第83題	第84題	第85題	第86題	第87題	第88題	第89題	第90題
答案										

題號	第91題	第92題	第93題	第94題	第95題	第96題	第97題	第98題	第99題	第100題
答案										

備註：

110年公務人員特種考試司法人員、法務部調查局
調查人員、海岸巡防人員、移民行政人員考試及110年
未具擬任職務任用資格者取得法官遴選資格考試試題

代號：3401
頁次：6-1

考試別：調查人員

等別：三等考試

類科組：各組別

科目：綜合法政知識與英文（包括中華民國憲法、法學緒論、兩岸關係、英文）

考試時間：1小時

座號：_____

更多調查局考試科目的歷屆題庫
立即上網搜尋“調查局歷屆考古題懶人包”
高鋒公職補習班整理
Line@帳號：@gaofeng
連絡電話：07-236-7296

※注意：(一)本試題為單一選擇題，請選出一個正確或最適當的答案，複選作答者，該題不予計分。
(二)本科目共50題，每題2分，須用2B鉛筆在試卡上依題號清楚劃記，於本試題上作答者，不予計分。
(三)禁止使用電子計算器。

- 下列憲法規定之修改變更，何者尚未造成對憲法整體規範秩序之破毀？
(A)民主共和國原則 (B)國民主權原則 (C)權力分立與制衡原則 (D)平等選舉原則
- 為防治疫情，主管機關限制人民一律無限期禁止出境，有違下列何種原則？
(A)福利國原則 (B)法律明確性原則 (C)平等原則 (D)比例原則
- 依司法院釋字第 748 號解釋，以性傾向作為分類標準所為之差別待遇，應適用何種程度之審查標準？
(A)嚴格審查 (B)寬鬆審查 (C)較為嚴格之審查 (D)合理審查
- 憲法增修條文第 10 條第 5 項明定：國家應推行全民健康保險。依司法院釋字第 550 號解釋意旨，其所稱國家指下列何者？
(A)僅指中央 (B)僅指地方
(C)兼指中央與地方 (D)依情形，可能僅指中央或僅指地方
- 下列人民權利，何者不屬於自由權之範疇？
(A)居住及遷徙 (B)言論及講學 (C)信仰宗教 (D)選舉及罷免
- 總統為下列何項行為時，須經行政院院長之副署？
(A)任命考試委員 (B)任命審計長 (C)公布法律 (D)解散立法院
- 有關立法院之文件調閱權，下列敘述何者正確？
(A)立法院之文件調閱權，以調閱文件所得資訊作為行使立法職權之資料
(B)對於偵查中之案件，立法院亦得向檢察機關調閱相關卷證
(C)已偵查終結而不起訴處分確定之案件卷證，立法院得向檢察機關調閱，檢察機關均不得拒絕
(D)立法院之文件調閱權，與監察院之調查權，均屬憲法明文規定之權力
- 為確保法官獨立審判，下列敘述何者錯誤？
(A)法官應具備職務獨立性，從事審判僅受法律拘束，不受其他任何形式干涉
(B)法官受刑事或懲戒處分，得免職
(C)法官非依法律不得停職、轉任或減俸
(D)法官得加入政黨，但不得擔任黨職
- 依司法院大法官審理案件法，關於立法委員聲請大法官解釋，下列敘述何者錯誤？
(A)須有立法委員現有總額三分之一以上提出聲請始得為之
(B)立法委員聲請之事由，包括其行使職權，適用憲法發生疑義者
(C)關於立法院職權行使之爭議，經法院確定裁判後，得提出聲請
(D)立法委員聲請之事由，包括其行使職權，適用法律發生有牴觸憲法之疑義者
- 地方自治可以垂直的權力分立加以理解，下列何者非屬我國垂直權力分立的實踐？
(A)組織自主性 (B)司法自主性 (C)稅收與財政自主性 (D)人事自主性

- 11 下列有關法律類型之敘述，何者正確？
(A)行政程序法參考德國法之規定，為固有法
(B)民法為公司法之一般法，公司法為民法之特別法
(C)民法第 17 條第 1 項規定，自由不得拋棄，此為任意法
(D)民法第 60 條第 1 項規定，設立財團者，應訂立捐助章程。但以遺囑捐助者，不在此限。但書之規定為原則法
- 12 下列何者非我國解嚴後推動的司法制度變革？
(A)推動審檢分隸，將司法行政部改制為法務部
(B)制定法官法，提升對於法官身分獨立的保障
(C)修正軍事審判制度，軍人平時犯罪皆由普通法院審理
(D)增設少年及家事法院，負責審理少年事件案件與家事案件
- 13 依地方制度法之規定，關於地方自治法規效力，下列敘述何者錯誤？
(A)自治條例與上級自治團體自治條例牴觸者，無效
(B)自治規則與基於法律授權之法規牴觸者，無效
(C)委辦規則與憲法牴觸者，無需經函告，當然無效
(D)自律規則與中央法規牴觸者，無效
- 14 下列關於法學三段論法之說明，何者正確？
(A)大前提是法律規範，小前提是法律效果，結論是案例事實
(B)大前提是案例事實，小前提是法律規範，結論是法律效果
(C)大前提是案例事實，小前提是法律效果，結論是法律規範
(D)大前提是法律規範，小前提是案例事實，結論是法律效果
- 15 依司法院大法官解釋意旨，若法律規定「計程車後窗玻璃應標示車牌號碼」，此規定係屬對人民職業自由之何種限制？
(A)執行職業之限制
(B)執行職業之客觀條件限制
(C)選擇職業之客觀條件限制
(D)選擇職業之主觀條件限制
- 16 依司法院大法官解釋之意旨，關於人身自由之保障，下列敘述何者錯誤？
(A)外國人之人身自由亦同受我國憲法保障
(B)對人身自由之剝奪或限制應遵循正當法律程序
(C)憲法第 8 條第 1 項所稱「警察機關」，並非僅指組織法上之形式「警察」之意，應為廣義理解
(D)依傳染病防治法強制隔離時，所需踐行之正當法律程序，與限制刑事被告人身自由之程序相同
- 17 下列何者不屬於行政行為？
(A)行政機關任用公務人員
(B)行政機關對下級人員所為之考績評等
(C)訴願審議委員會所作成之訴願決定書
(D)直轄市市議會議長依法宣誓就職
- 18 依我國著作權法規定，在電影院播放電影供購票入場之觀眾觀賞，屬於下列何種行為？
(A)公開上映
(B)公開演出
(C)公開傳輸
(D)公開播送
- 19 依中央法規標準法之規定，關於法規之適用原則，下列敘述何者錯誤？
(A)特別法優於普通法
(B)新普通法優於舊特別法
(C)法規準用其他法規者，於該他法規修正後，準用修正後之法規
(D)機關受理人民聲請許可案件，處理程序終結前，據以准許之法規有變更者，採從新從優原則

- 20 甲為乙設定抵押權之房屋投保火災險，並以甲自己為受益人，該屋於債權屆至前不幸因火災全毀，對抵押權有何影響？
(A)抵押權消滅，但債權人得立即請求清償債務 (B)抵押權消滅，被擔保之債權成為普通債權
(C)抵押權消滅，但可轉換為動產質權 (D)抵押權消滅，但可轉換為權利質權
- 21 中華人民共和國現行法律體系中，具有「司法解釋權」的機關包括那些？①全國人民代表大會常務委員會 ②最高人民法院 ③最高人民檢察院 ④全國人民政治協商會議 ⑤中國共產黨中央紀律檢查委員會
(A)①②③ (B)②③⑤ (C)①②③④ (D)①②③④⑤
- 22 在大陸地區從事投資或技術合作，投資人對大陸投資累計金額不得超過多少投資金額？
(A)個人：每年五百萬美金 (B)每戶：每年八百萬美金
(C)中小企業：新臺幣九千萬元 (D)其他企業：沒有相關規定與限制
- 23 關於臺灣地區與大陸地區海運直航許可管理辦法規定，請問下列何者正確？
(A)臺灣地區與大陸地區直航港口，僅限國內商港和工業港，不包括國際商港
(B)兩岸直航港口由海洋委員會海巡署報行政院指定後公告，並刊登政府公報
(C)大陸地區船舶入出臺灣地區直航港口期間，船舶懸掛公司旗，船艙及主桅不掛旗
(D)船舶運送業申請經營兩岸海運客貨直航業務，應向航港局申請，許可期間以六個月為限
- 24 大陸地區人民在臺灣地區「定居」之數額，每年有人數限定的類別為何？
(A)臺灣地區人民之親生子女，年齡在十二歲以下者
(B)臺灣地區人民之配偶，於中華民國三十八年以前結婚者
(C)大陸地區人民經許可進入臺灣地區定居，並設有戶籍，其十二歲以下親生子女者
(D)臺灣地區人民之配偶，經許可在臺灣地區長期居留連續滿二年，且每年居住逾一百八十三日，並符合定居條件者
- 25 簡任第十職等及警監四階以下未涉及國家安全利益或機密之公務員及警察人員赴大陸地區的方式，下列規定何者正確？
(A)須攜眷同行 (B)以參團為原則 (C)採個人旅遊為主 (D)僅限參加學術交流活動
- 26 經過兩年的審議，2020年12月26日中共第十三屆全國人民代表大會常務委員會修訂通過〈中華人民共和國國防法〉，自2021年1月1日正式生效，請問下列敘述何者正確？
(A)中華人民共和國的武裝力量不受中國共產黨領導
(B)明定國家主權不屬於中國的國家核心利益範疇
(C)強調中華人民共和國奉行積極性國防政策
(D)首次將「分裂」和保護「發展利益」作為動員和部署軍隊的理由
- 27 有關兩岸出版品之管理，請問下列敘述何者正確？
(A)經許可在臺灣地區發行之大陸地區雜誌、圖書可用正體字或簡體字發行
(B)在大陸地區發行未滿一年之雜誌，經主管機關許可，臺灣地區雜誌事業得接受授權在臺灣地區發行
(C)經許可在臺灣地區發行之大陸地區雜誌逾一年未發行，或中斷發行逾六個月，主管機關始得廢止其許可
(D)大陸地區出版品（包括新聞紙、雜誌等）之內容有「凸顯中共標誌者」，不予許可進入臺灣地區，但因內容需要，不在此限
- 28 關於中共的黨政組織和人事，請問下列敘述何者正確？
(A)中國共產黨全國代表大會，每三年舉行一次，由中國共產黨中央委員會召集之
(B)中共中央於今（2021）年初宣布10月將召開第二十次全國代表大會
(C)現任國家副主席王岐山，同時兼中共中央紀律檢查委員會書記和國家監察委員會主任
(D)中共十九大的中央政治局常務委員會委員共七人，分別是習近平、李克強、栗戰書、汪洋、王滬寧、趙樂際和韓正

- 29 有關中共對臺政策的內涵，請問下列敘述何者正確？
(A)中共對臺政策的總綱領為「一個中國原則」
(B)鄧小平於 1984 年所提「一個國家，兩種制度」是指：在中華人民共和國內實行「社會主義制度」，香港、臺灣實行「資本主義制度」
(C)「和平統一、一國兩制」是中國政府的基本國策，首次由江澤民提出
(D)胡錦濤最早提出「兩岸經社融合發展」，擴大兩岸經濟交流合作，並願意率先同臺灣同胞分享大陸發展的機遇
- 30 為使維穩的法律依據更加完備與建構國家安全體系，由中共第十二屆全國人民代表大會常務委員會通過、國家主席習近平簽署頒布與施行的法律，除新訂的《國家安全法》外尚包含下列那些選項？①《反間諜法》 ②《反恐怖主義法》 ③《網路安全法》 ④《境外非政府組織境內活動管理法》
(A)②③ (B)①②④ (C)②③④ (D)①②③④
- 31 To make the contract more complete, the hockey star _____ a clause that would guarantee him 50% of his salary if an injury ended his career.
(A) renounced (B) inserted (C) represented (D) structured
- 32 The police _____ themselves as tourists, secretly videotaping visitors as they moved round the exhibition site.
(A) consigned (B) harmonized (C) moderated (D) disguised
- 33 New satellite images of Antarctica just revealed a number of Emperor penguin colonies that scientists were not _____ of in their early research.
(A) anxious (B) aware (C) afraid (D) acquired
- 34 In a democratic country, everyone is _____ to the freedom of speech and expression. This right is protected by the law.
(A) empowered (B) enabled (C) endowed (D) entitled
- 35 After his heart attack, the doctor put him on a strict _____, and regular appointments are scheduled for further checkups.
(A) decency (B) regimen (C) casualty (D) shipwreck
- 36 When celebrating a new year, we often wish others happiness, _____, and good health.
(A) resistance (B) prosperity (C) temptation (D) succession
- 37 One benefit of working past the normal retirement age is the ability to _____ current standard of living by increasing lifetime income.
(A) maintain (B) mandate (C) manifest (D) manufacture
- 38 Sadly, their recent, truncated live shows bore no evidence of new material with which to _____ their success.
(A) sustain (B) suppress (C) suspect (D) suspend
- 39 Patrick is such a good-natured person; he practices _____ faithfully and is always more than ready to help needy people.
(A) altruism (B) cynicism (C) euphemism (D) metabolism
- 40 At the roots of my hair a _____ sensation began and ran down the surface of my flesh, leaving me goose-fleshed and cold.
(A) tingling (B) tempering (C) twittering (D) twinkling

請依下文回答第 41 題至第 45 題

With the advent of freezers, we're able to preserve our food longer than before. But is there a difference between fresh and frozen produce 41 nutrition? Well, it highly depends on the circumstances. Most food you take off the shelf in a grocery store 42 under-ripe to avoid damage during travel time. This means it hasn't yet reached its peak nutrition. Furthermore, the minute it is picked, its nutritional content begins to 43. When it finally appears on your dinner table days later, the food may lose up to 50 percent of its nutritional value. Frozen foods, 44, are picked when they're ripe and frozen immediately. 45 the quick freeze process may affect some of the vitamin content, it essentially locks most of the nutrients in place. Compared with the fresh produce that has been sitting around for days, there's no doubt that frozen foods contain more nutrition.

- 41 (A) instead of (B) in terms of (C) in place of (D) in spite of
42 (A) was harvesting (B) has harvested (C) had harvested (D) has been harvested
43 (A) descend (B) deflate (C) deprive (D) deteriorate
44 (A) in the meantime (B) in some respects (C) on the other hand (D) for the time being
45 (A) Although (B) Despite (C) However (D) Nonetheless

請依下文回答第 46 題至第 50 題

At the beginning of the 20th century, less than 1,000 colleges with 160,000 students existed in the US. The number of colleges skyrocketed in waves, during the early and mid 20th century. State universities grew from small institutions of fewer than 1,000 students to campuses with 40,000 more students, with networks of regional campuses around the state. In turn, regional campuses broke away and became separate universities.

To handle the explosive growth of K-12 education, every state set up a network of teachers' colleges, beginning with Massachusetts in the 1830s. After 1950, they became state colleges and then state universities with a broad curriculum. Major new trends included the development of the junior colleges. They were usually set up by city school systems starting in the 1920s. By the 1960s they were renamed as "community colleges."

Junior colleges grew from 20 in number in 1909, to 170 in 1919. By 1922, 37 states had set up 70 junior colleges, enrolling about 150 students each. Meanwhile, another 137 were privately operated, with about 60 students each. Rapid expansion continued in the 1920s, with 440 junior colleges in 1930 enrolling about 70,000 students. The peak year for private institutions came in 1949, when there were 322 junior colleges in all; 180 were affiliated with churches, 108 were independent and non-profit, and 34 were private schools being run for-profit.

Many factors contributed to rapid growth of community colleges. Students parents and businessmen wanted nearby, low-cost schools to provide training for the growing white-collar labor force, as well as for more advanced technical jobs in the blue-collar sphere. Four-year colleges were also growing, albeit not as fast; however, many of them were located in rural or small-town areas away from the fast-growing metropolis. Community colleges continue as open-enrollment, low-cost institutions with a strong component of vocational education, as well as a low-cost preparation for transfer students into four-year schools. They appeal to a poorer, older, less prepared element.

- 46 Which of the following statements is TRUE, according to the text above?
- (A) At the beginning, there were less than 1,000 colleges with 160,000 students existing in the US.
(B) In the 1830s, state colleges and universities were set up to train teachers for the explosive growth of K-12 education.
(C) Junior colleges were usually set up by city school systems starting in the 1930s.
(D) Community colleges were renamed from junior colleges as low-cost institutions with a strong component of vocational education.

- 47 Which of the following statements is true to the description about junior colleges?
- (A) Junior colleges grew from 1919 students to 70,000 in 1930.
 - (B) In 1949, there were 180 private junior colleges affiliated with churches.
 - (C) The rapid growth of community colleges is due to the demand for more non-profit independent institutions.
 - (D) Teachers' colleges are the community name for junior colleges.
- 48 Which is one of the factors that contributed to the rapid growth of community colleges in the United States?
- (A) It is a major new trend to include as many rural students as possible.
 - (B) The purpose is to handle the explosive growth of K-12 education.
 - (C) Parents and businessmen wanted nearby, low-cost schools in rural or small-town areas to provide training for the growing white-collar labor force.
 - (D) Many community colleges were located in the center of the fast-growing metropolis to provide more advanced technical jobs in the blue-collar sphere.
- 49 Which of the following statistics is TRUE?
- (A) Before 1919, there were already more than 170 junior colleges.
 - (B) In the 1920s, there were about 140 privately-operated junior colleges.
 - (C) In 1949, there were totally 180 junior colleges with 108 independent non-profit.
 - (D) The peak year for private community college expansion came at the year of 1922.
- 50 Which of the following statements is TRUE, according to the text above?
- (A) Community colleges enrollment is vocationally limited.
 - (B) Four-year college growth was affected by the open-enrollment policy of junior colleges.
 - (C) Community colleges provide low-cost preparation for transfer students into four-year institutions.
 - (D) Community colleges continue to appeal to young, less prepared students.

測驗式試題標準答案

考試名稱：110年公務人員特種考試司法人員、法務部調查局調查人員、海岸巡防人員、移民行政人員考試及110年未具擬任職務任用資格者取得法官遴選資格考試

類科名稱：資訊科學組、調查工作組(選試德文)、調查工作組(選試英文)、營繕工程組、調查工作組(選試西班牙文)、調查工作組(選試韓文)、醫學鑑識組、法律實務組、調查工作組(選試法文)、化學鑑識組、調查工作組(選試日文)、財經實務組、調查工作組(選試俄文)、調查工作組(選試阿拉伯文)、電子科學組

科目名稱：綜合法政知識與英文(包括中華民國憲法、法學緒論、兩岸關係、英文)(試題代號：3401)

單選題數：50題

單選每題配分：2.00分

複選題數：

複選每題配分：

標準答案：

更多調查局考試科目的歷屆題庫
立即上網搜尋“調查局歷屆考古題懶人包”
高鋒公職補習班整理
Line@帳號：@gaofeng
連絡電話：07-236-7296

題號	第1題	第2題	第3題	第4題	第5題	第6題	第7題	第8題	第9題	第10題
答案	D	D	C	C	D	C	A	D	C	B

題號	第11題	第12題	第13題	第14題	第15題	第16題	第17題	第18題	第19題	第20題
答案	B	A	C	D	A	D	D	A	B	D

題號	第21題	第22題	第23題	第24題	第25題	第26題	第27題	第28題	第29題	第30題
答案	A	A	C	C	B	D	D	D	B	D

題號	第31題	第32題	第33題	第34題	第35題	第36題	第37題	第38題	第39題	第40題
答案	B	D	B	D	B	B	A	A	A	A

題號	第41題	第42題	第43題	第44題	第45題	第46題	第47題	第48題	第49題	第50題
答案	B	D	D	C	A	D	B	D	B	C

題號	第51題	第52題	第53題	第54題	第55題	第56題	第57題	第58題	第59題	第60題
答案										

題號	第61題	第62題	第63題	第64題	第65題	第66題	第67題	第68題	第69題	第70題
答案										

題號	第71題	第72題	第73題	第74題	第75題	第76題	第77題	第78題	第79題	第80題
答案										

題號	第81題	第82題	第83題	第84題	第85題	第86題	第87題	第88題	第89題	第90題
答案										

題號	第91題	第92題	第93題	第94題	第95題	第96題	第97題	第98題	第99題	第100題
答案										

備註：

110年公務人員特種考試司法人員、法務部調查局
調查人員、海岸巡防人員、移民行政人員考試及110年
未具擬任職務任用資格者取得法官遴選資格考試試題

考試別：調查人員
等 別：三等考試
類科組：資訊科學組
科 目：系統分析與設計
考試時間：2小時

更多調查局考試科目的歷屆題庫
立即上網搜尋“調查局歷屆考古題懶人包”
高鋒公職補習班整理
Line@帳號：@gaofeng
連絡電話：07-236-7296

座號：_____

※注意：(一)禁止使用電子計算器。

(二)不必抄題，作答時請將試題題號及答案依照順序寫在試卷上，於本試題上作答者，不予計分。

(三)本科目除專門名詞或數理公式外，應使用本國文字作答。

- 一、訪談是最常用的需求蒐集技術，請詳述非結構化訪談（unstructured interview）、結構化訪談（structured interview）、自上而下訪談（top-down interview）和自下而上訪談（bottom-up interview）的區別和使用時機。（25分）
- 二、請舉例詳述如何用活動圖塑造企業流程，並說明控制節點（control node）和物件節點（object node）有那些類型，控制流程（control flow）和物件流程（object flow）有什麼區別。（25分）
- 三、從物件導向的設計觀點來看，共生性（connascence）結合內聚力、耦合力和封裝的概念並予以一般化，用來評估物件導向系統的設計是否良好。共生性有許多種類，常見的有名稱（Name）、型態或類別（Type or class）、習慣用法（Convention）、演算法（Algorithm）和位置（Position）。請詳述上述五種共生性，並就每種類型各舉一例說明。（25分）
- 四、在系統分析與設計中，需要擬定安全性需求來保護資訊系統不會受到人為的故意攻擊及隨機事件引起的影響。請詳述五種安全性需求並舉例說明。（25分）

110年公務人員特種考試司法人員、法務部調查局
調查人員、海岸巡防人員、移民行政人員考試及110年
未具擬任職務任用資格者取得法官遴選資格考試試題

考試別：調查人員
等別：三等考試
類科組：資訊科學組
科目：資料庫應用
考試時間：2小時

更多調查局考試科目的歷屆題庫
立即上網搜尋“調查局歷屆考古題懶人包”
高鋒公職補習班整理
Line@帳號：@gaofeng
連絡電話：07-236-7296

座號：_____

※注意：(一)禁止使用電子計算器。

(二)不必抄題，作答時請將試題題號及答案依照順序寫在試卷上，於本試題上作答者，不予計分。

(三)本科目除專門名詞或數理公式外，應使用本國文字作答。

一、有一銀行委予資料庫設計，做完系統分析後，得到如下需求 (Requirements)：

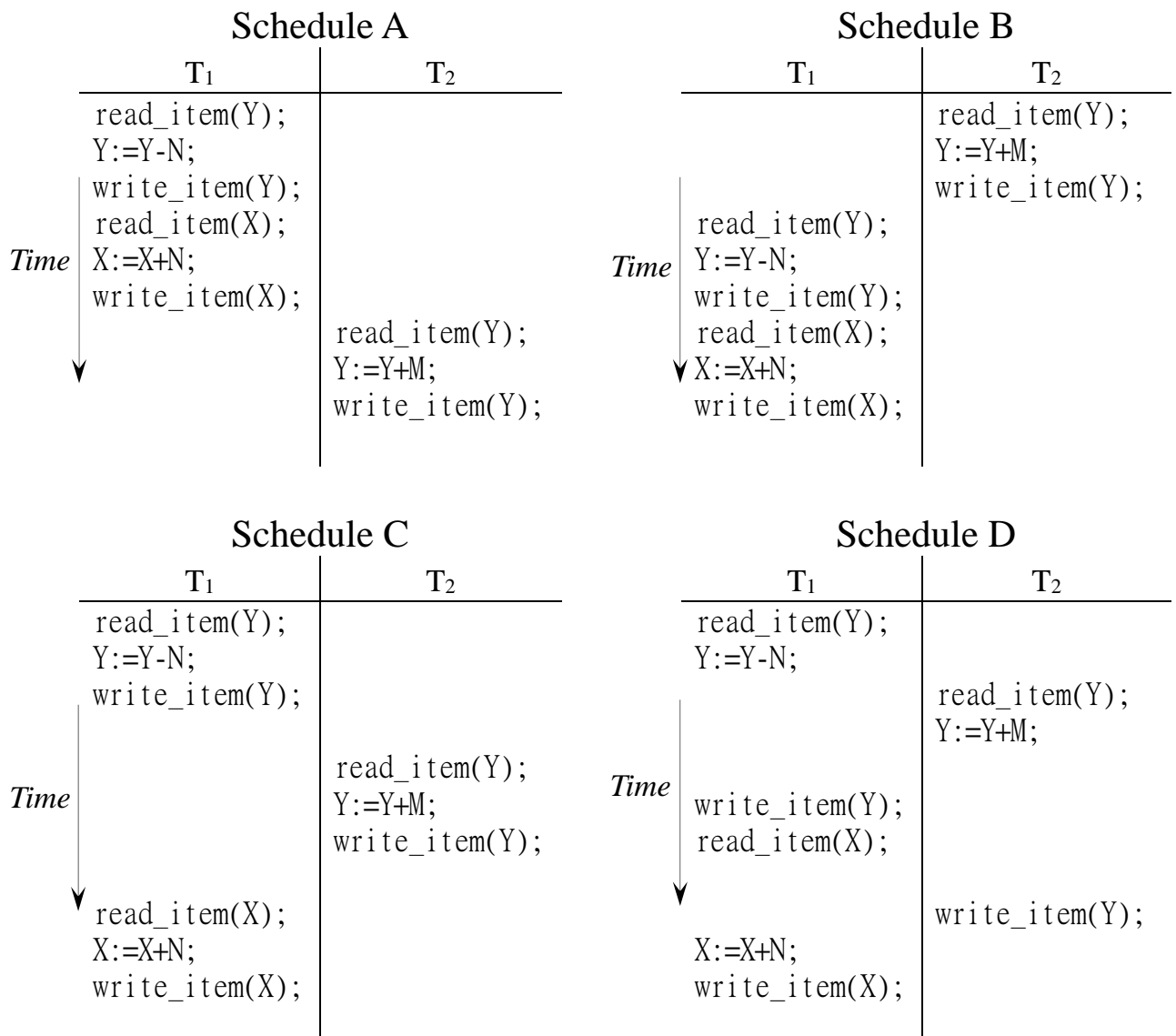
- (1)一銀行(BANK)，有銀行代碼(Code)，銀行名稱(Name)和地址(Addr)，銀行代碼用以區別不同的銀行。
- (2)一銀行有許多分行(BANK-BRANCH)，每一分行有地址(BranchAddr)和分行代碼(BranchNo)，分行代碼用以區別不同的分行，一分行不能單獨存在，一定要隸屬於某一銀行，但一銀行可以沒有分行(例如籌備中)。
- (3)一分行可以有許多的帳戶(ACCOUNT)，每一帳戶有帳戶編號(AcctNo)，餘額(Balance)，和帳號種類(Type)，帳戶編號用以區別不同的帳戶，一帳戶必須隸屬於某一分行，但分行可以沒有帳戶。
- (4)一客戶(CUSTOMER)可以擁有多個帳戶(ACCOUNT)，每一客戶有客戶代碼(SSN)，名字(CustName)，手機號碼(Phone)和地址(CustAddr)，客戶代碼用以區別不同的客戶；一帳戶(ACCOUNT)也可以由多個客戶(CUSTOMER)所擁有，一帳戶必須要有客戶所擁有，但客戶可以沒有帳戶。
- (5)一分行可以有許多的貸款(LOAN)，每一筆貸款有貸款編號(LoanNo)，種類(LoanType)和貸款金額(Amount)，每一貸款必須隸屬於某一分行，但分行可以沒有貸款。
- (6)一客戶可以有多筆貸款，一筆貸款也可以由多個客戶來共同借貸，一貸款必須隸屬於一客戶，但客戶可以沒有貸款。

請畫出此銀行資料庫的實體關係圖(ER Diagram)，此實體關係圖裡應包括有強實體型態(Strong Entity Type)與弱實體型態(Weak Entity Type)的設計，並請標示各項限制(Constraints)。(25分)

二、給予一關聯網要(Relation Schema) EMP-PROJ (SSN, Pnumber, Hours, Ename, Pname, Plocation)，主鍵為(SSN, Pnumber)，此關聯網要記錄員工的識別碼與名字，與所參與的計畫名稱及計畫所在位置，一個員工可參與多個計畫，每一參與的計畫會記錄參與的時數，此外，此關聯網要給予一組

功能依附性 (Functional Dependences) : $\{\{SSN, Pnumber\} \rightarrow \{Hours\}, \{SSN\} \rightarrow \{Ename\}, \{Pnumber\} \rightarrow \{Pname\}, \{Pnumber\} \rightarrow \{Plocation\}\}$, EMP-PROJ 關聯網要有更改異常 (Update Anomalies) 問題嗎? 試舉一例說明插入更改異常 (Insertion Anomalies) , EMP-PROJ 關聯網要是 2NF 格式嗎? 如不是, 請將 EMP-PROJ 關聯網要分割 (Decompose) 到 2NF 的關聯網要, 並論述分割的原理。(25 分)

- 三、在資料庫處理, 交易處理的資料庫存取指令 (Access Operations) 包括那些? 何謂交易 (Transactions)? 何謂行程 (Schedules)? 一行程由多個交易組成, 一行程的執行會產生那些問題? 在資料庫管理系統 (DBMS) 的並行控制和回復機制要強制交易處理達到那些特性 (Desirable Properties of Transactions)? 請論述之。(25 分)
- 四、給予下列四個行程 A、B、C、D, 依優先序圖形 (Precedence Graph), 請論述那一行程不具序列性 (Serializability)。(25 分)



110年公務人員特種考試司法人員、法務部調查局
調查人員、海岸巡防人員、移民行政人員考試及110年
未具擬任職務任用資格者取得法官遴選資格考試試題

考試別：調查人員
等 別：三等考試
類科組：資訊科學組
科 目：資訊安全實務
考試時間：2小時

更多調查局考試科目的歷屆題庫
立即上網搜尋“調查局歷屆考古題懶人包”
高鋒公職補習班整理
Line@帳號：@gaofeng
連絡電話：07-236-7296

座號：_____

※注意：(一)禁止使用電子計算器。

(二)不必抄題，作答時請將試題題號及答案依照順序寫在試卷上，於本試題上作答者，不予計分。

(三)本科目除專門名詞或數理公式外，應使用本國文字作答。

- 一、試說明資料傳輸之對稱式 (Symmetric) 加密法與非對稱式 (Asymmetric) 加密法以及二者之間的差異性。並說明 TCP/IP 網路上傳輸層 (Transport Layer) 和網際網路層 (Internet Layer) 所提供的資訊安全機制之通訊協定與其功能。(25 分)
- 二、試寫出下列無線區域網路 (Wireless LAN) 相關的名詞之定義與其功能：
 - (一)什麼是 AP？此外，並寫出其功能。(10 分)
 - (二)什麼是 WPA2？此外，並寫出其功能。(15 分)
- 三、試寫出下列雲端運算 (Cloud Computing) 相關的名詞之定義與其資訊安全問題：
 - (一)什麼是 VM？此外，並寫出其功能。(10 分)
 - (二)於雲端運算平台上，目前常見的網際安全攻擊 (Cyber Security Attacks) 有那些並說明其特性？請列舉三項。(15 分)
- 四、什麼是 SOC？於 SOC 風險管理中，執行其風險評估以衡量威脅 (Threats) 與弱點 (Vulnerabilities) 的發生機率 (Likelihood) 時，可能會衍生那兩項主要的問題？此外，請提出策略以解決此問題。(25 分)

代號:41420
頁次:1-1

110年公務人員特種考試司法人員、法務部調查局
調查人員、海岸巡防人員、移民行政人員考試及110年
未具擬任職務任用資格者取得法官遴選資格考試試題

考試別：調查人員
等別：三等考試
類科組：資訊科學組
科目：資通網路
考試時間：2小時

更多調查局考試科目的歷屆題庫
立即上網搜尋“調查局歷屆考古題懶人包”
高鋒公職補習班整理
Line@帳號：@gaofeng
連絡電話：07-236-7296

座號：_____

※注意：(一)禁止使用電子計算器。

(二)不必抄題，作答時請將試題題號及答案依照順序寫在試卷上，於本試題上作答者，不予計分。

(三)本科目除專門名詞或數理公式外，應使用本國文字作答。

- 一、針對網路提供連接導向 (connection oriented) 和非連接 (connectionless) 的傳輸服務。請說明 OSI 和 TCP/IP 模型 (model) 的做法有何不同？(20分)
- 二、請說明網路流量控制 (flow control) 的目的為何？在 OSI 7 層 (layer) 中資料鏈結層 (data link layer)、網路層 (network layer) 和傳輸層 (transport layer) 都有做流量控制，請說明有何不同？(20分)
- 三、請說明 BPSK、QPSK、QAM-64、QAM-256 屬何種調變 (modulation) 技術，其對於實際的傳輸速率有何影響？(20分)
- 四、行動通訊網路中，5G 相較 4G 具有高速 (speed)、低延遲 (latency) 等多項優勢，請針對傳輸速率 (transmission rate)、調變機制 (modulation scheme)、時間延遲項目說明 5G 和 4G 的差別。(20分)
- 五、依 OSI 7 層 (layer) 的定義，請說明那一層 (layer) 執行錯誤控制 (error control)？非同步傳送模式 (asynchronous transfer mode, ATM) 網路如何做錯誤控制？(20分)